





# 並べ方と 組み合わせ方 6


● 2つ選ぶ組み合わせ  
(樹形図)



日にち：            月            日

名まえ \_\_\_\_\_


・イチゴ、チョコ、バニラ、メロンの4つのアイスクリームから、2つ  
選びます。次の問いに答えましょう。(うすい字はなぞりましょう。)




イチゴ



チョコ



バニラ



メロン

① どんな組み合わせがありますか。図にまとめましょう。

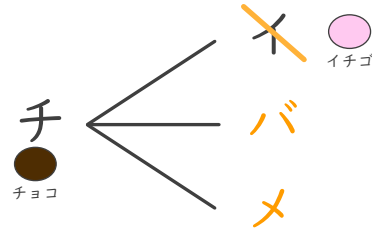
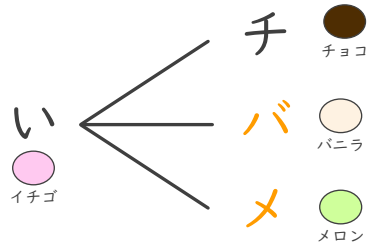
イチゴ ⇒ イ

バニラ ⇒ バ

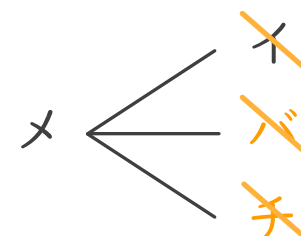
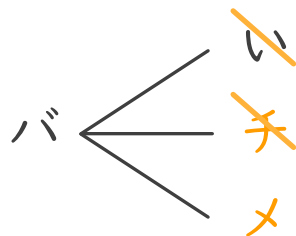
1文字で表して  
かいてみよう!

チョコ ⇒ チ

メロン ⇒ メ



同じ組み合わせが  
出たら消す



② アイスクリームの組み合わせは全部で何通りありますか。

答え (            6通り            )

