



並べ方と
組み合わせ方 6


● 2つ選ぶ組み合わせ
(樹形図)



日にち： 月 日

名まえ _____


- ・イチゴ、チョコ、バニラ、メロンの4つのアイスクリームから、2つ選びます。次の問いに答えましょう。（うすい字はなぞりましょう。）



イチゴ



チョコ



バニラ



メロン

- ① どんな組み合わせがありますか。図にまとめましょう。

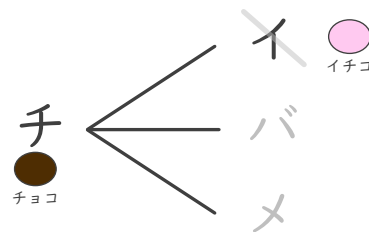
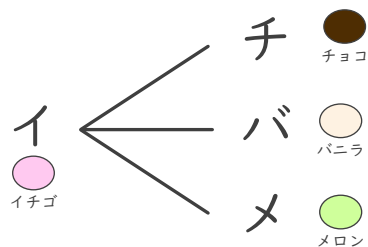
イチゴ ⇒ イ

バニラ ⇒ バ

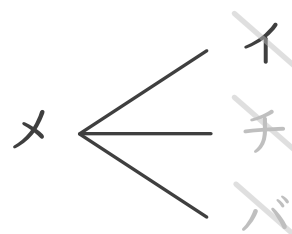
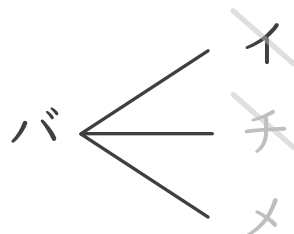
！文字で表して
かいてみよう！

チョコ ⇒ チ

メロン ⇒ メ



同じ組み合わせが
出たら消そう！



- ② アイスクリームの組み合わせは全部で何通りありますか。

答え (

)





並べ方と 組み合わせ方 6


● 2つ選ぶ組み合わせ
(樹形図)



日にち： 月 日

名まえ _____


・イチゴ、チョコ、バニラ、メロンの4つのアイスクリームから、2つ選びます。次の問いに答えましょう。(うすい字はなぞりましょう。)



イチゴ



チョコ



バニラ



メロン

① どんな組み合わせがありますか。図にまとめましょう。

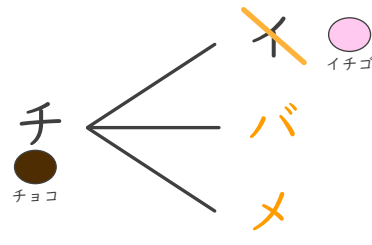
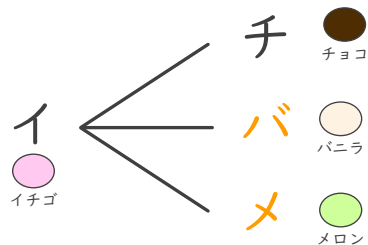
イチゴ ⇒ イ

バニラ ⇒ バ

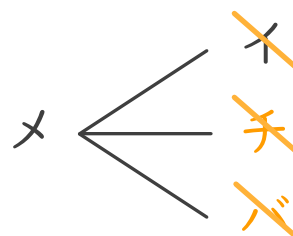
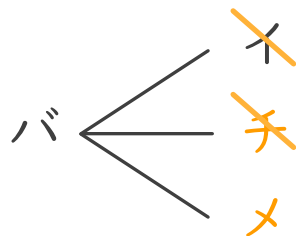
1文字で表して
かいてみよう!

チョコ ⇒ チ

メロン ⇒ メ



同じ組み合わせが
出たら消す



② アイスクリームの組み合わせは全部で何通りありますか。

答え (6通り)

