



並べ方と  
組み合わせ方 4

● 4つの数字から  
2けたの整数をつくる



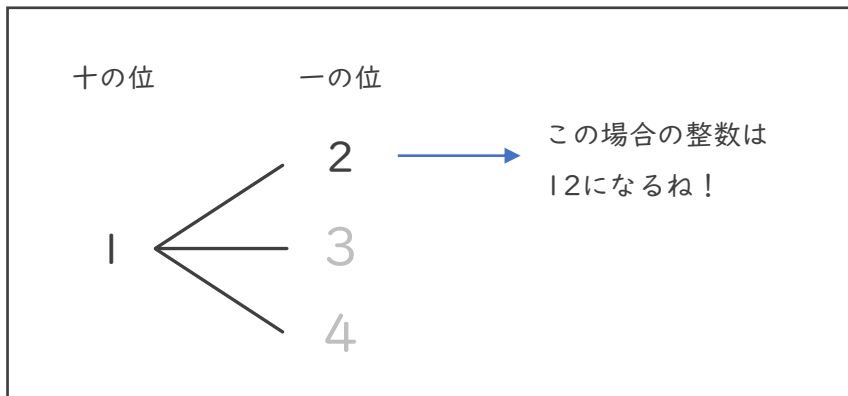
日にち：            月            日

名まえ \_\_\_\_\_

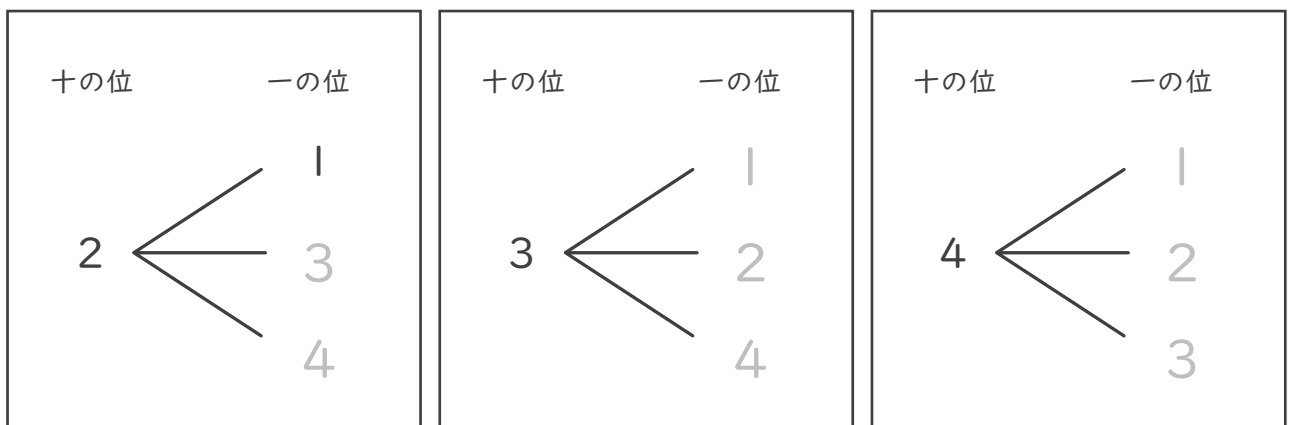
- ・下の4枚のカードのうちの2枚を選んで、2けたの整数をつくりま  
す。次の問いに答えましょう。（うすい字はなぞりましょう。）



- ① 十の位が1になる場合を図に表しましょう。



- ② 十の位が2, 3, 4になる場合を図に表しましょう。



- ③ 2けたの整数は全部で何通りできますか。

答え（            12通り            ）



## 並べ方と 組み合わせ方 4

● 4つの数字から  
2けたの整数をつくる



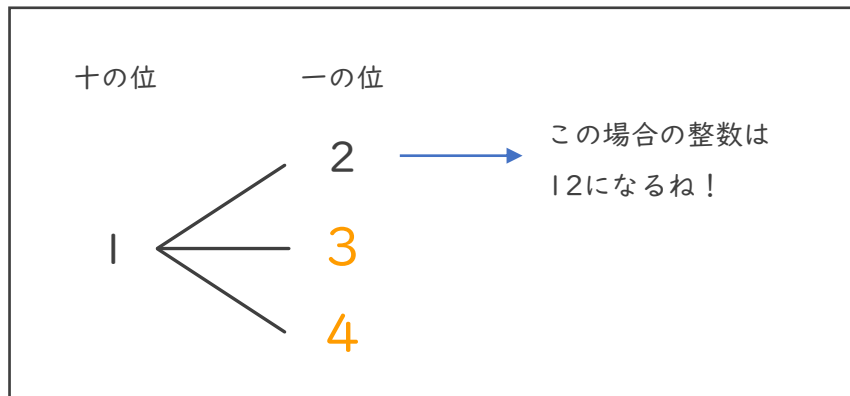
日にち：            月            日

名まえ \_\_\_\_\_

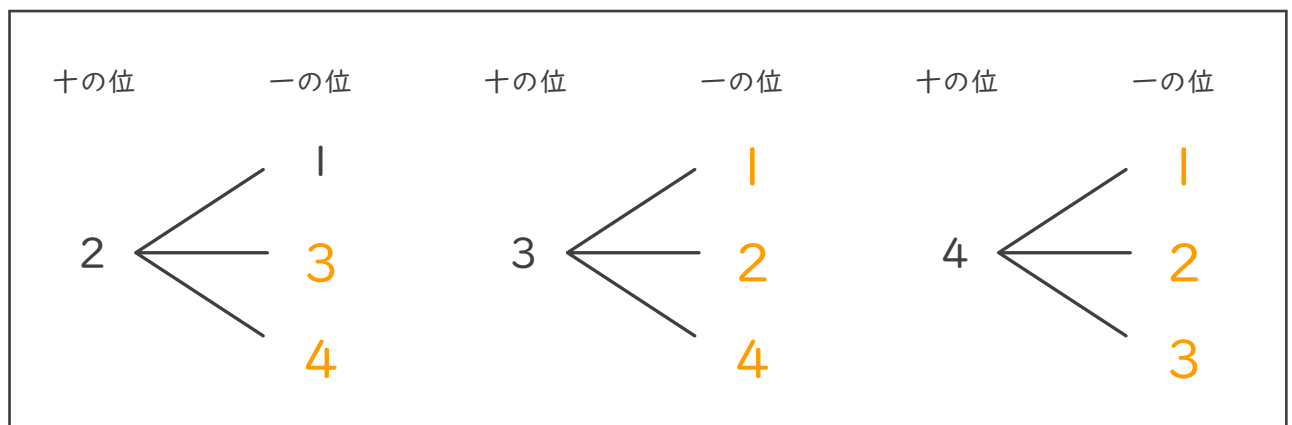
- ・下の4枚のカードのうちの2枚を選んで、2けたの整数をつくりま  
す。次の問いに答えましょう。（うすい字はなぞりましょう。）



- ① 十の位が1になる場合を図に表しましょう。



- ② 十の位が2, 3, 4になる場合を図に表しましょう。



- ③ 2けたの整数は全部で何通りできますか。

答え (            12通り            )