

拡大図と縮図 6

ある頂点を中心とした縮図の作図

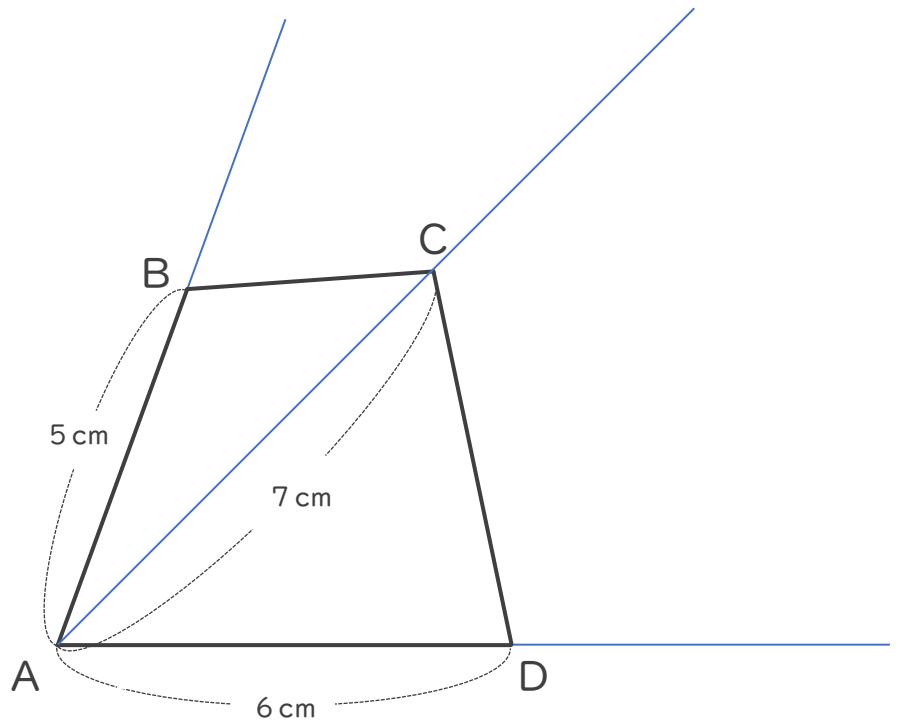


日にち： 月 日

名まえ _____

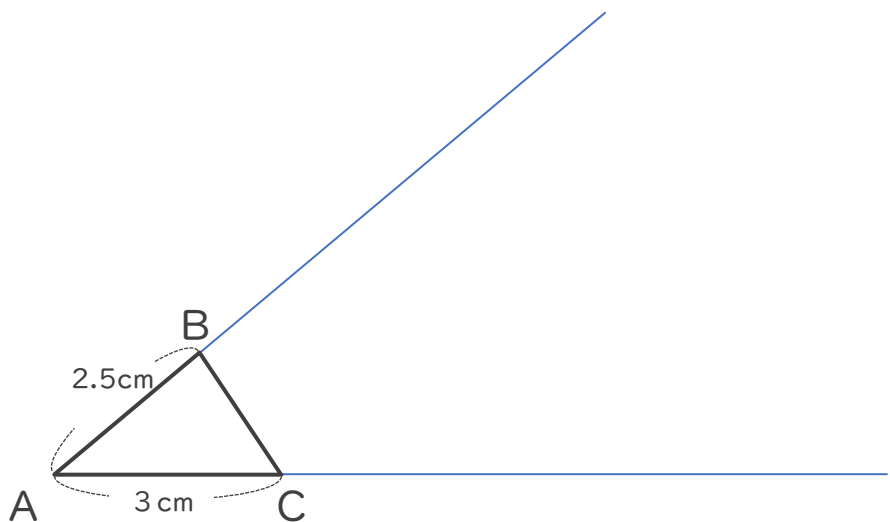
1 次の四角形ABCDの $\frac{1}{2}$ の縮図を頂点Aを中心にしてかきましょう。

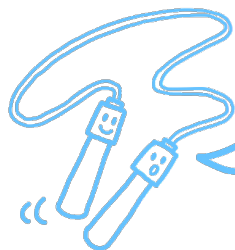
①



2 次の図形の2倍の拡大図を書きましょう。

②





拡大図と縮図 6

ある頂点を中心とした縮図の作図



日にち： 月 日

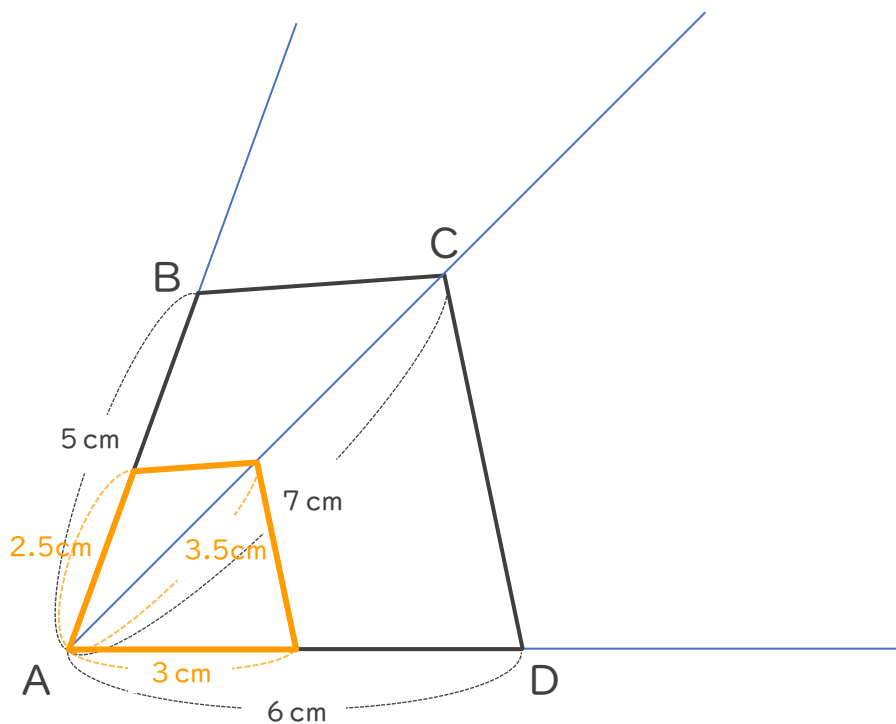
名まえ _____

1 次の四角形ABCDの $\frac{1}{2}$ の縮図を頂点Aを中心にしてかきましょう。

$$5\text{ cm} \times \frac{1}{2} = 2.5\text{ cm}$$

$$7\text{ cm} \times \frac{1}{2} = 3.5\text{ cm}$$

$$6\text{ cm} \times \frac{1}{2} = 3\text{ cm}$$



2 次の図形の2倍の拡大図を書きましょう。

$$2.5\text{ cm} \times 3 = 7.5\text{ cm}$$

$$3\text{ cm} \times 3 = 9\text{ cm}$$

