



およその
面積と体積 3

◎ 立体に見立てて
およその面積を求める

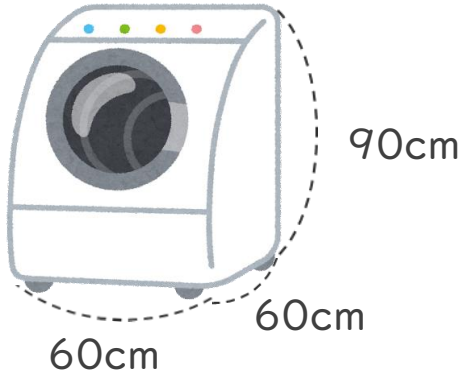


日にち： 月 日

名まえ _____

1 およその容積や体積を求めましょう。

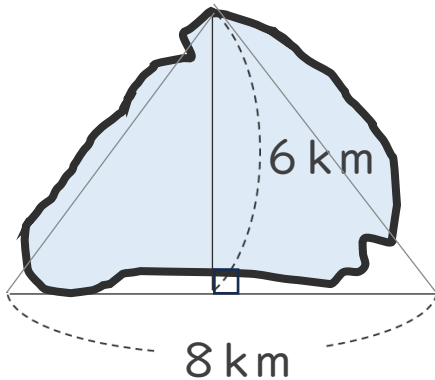
①



式：

答え： 約 _____

2 次の図のような形の湖の面積は、およそ何 km^2 ですか。



式：

答え： 約 _____



およその
面積と体積 3

◎ 立体に見立てて
およその面積を求める

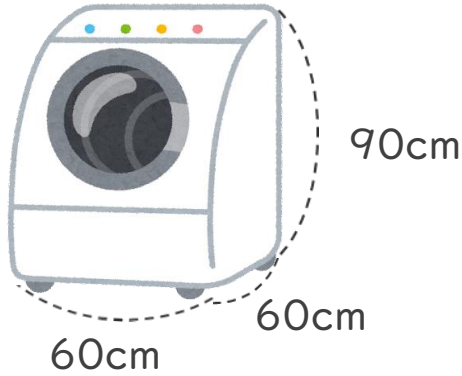


日にち： 月 日

名まえ _____

1 およその容積や体積を求めましょう。

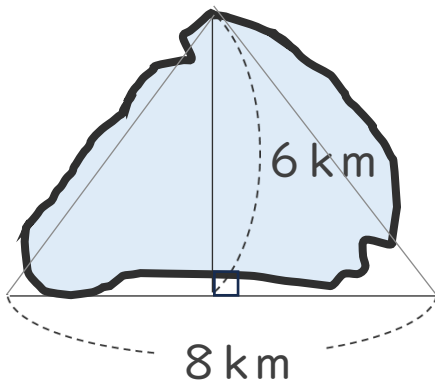
①



式： $60 \times 60 \times 90 = 324000$

答え：約 324000 cm^3

2 次の図のような形の湖の面積は、およそ何 km^2 ですか。



式： $8 \times 6 \div 2 = 24$

答え：約 24 km^2