



並べ方と 組み合わせ方 6

● 2つ選ぶ組み合わせ
(樹形図)



日にち： 月 日

名まえ _____

・か、き、く、け、この5つのひらがなから、2つ選びます。次の問いに答えましょう。

① どんな組み合わせがありますか。図にまとめましょう。

② ひらがなの組み合わせは全部で何通りありますか。

答え ()





並べ方と
組み合わせ方 6

● 2つ選ぶ組み合わせ
(樹形図)

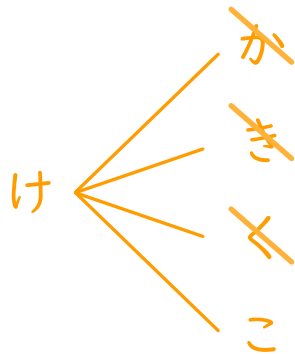
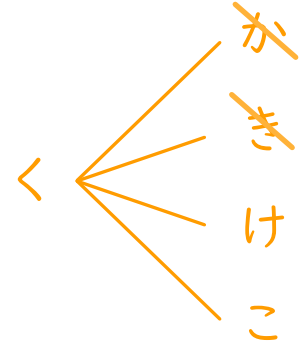
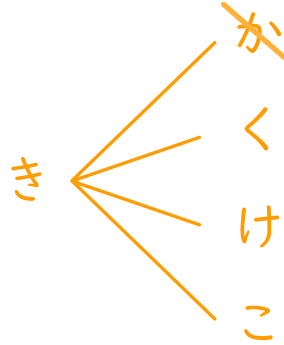
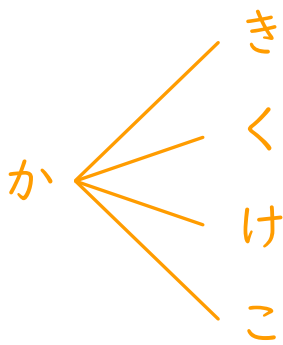
10

日にち： 月 日

名まえ _____

・か、き、く、け、この5つのひらがなから、2つ選びます。次の問いに答えましょう。

① どんな組み合わせがありますか。図にまとめましょう。



② ひらがなの組み合わせは全部で何通りありますか。

答え (10通り)