



並べ方と
組み合わせ方 6

● 2つ選ぶ組み合わせ
(樹形図)

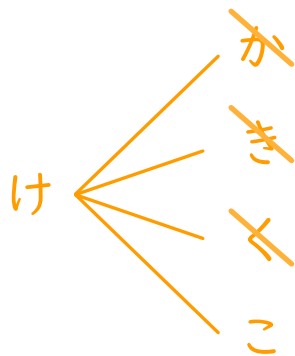
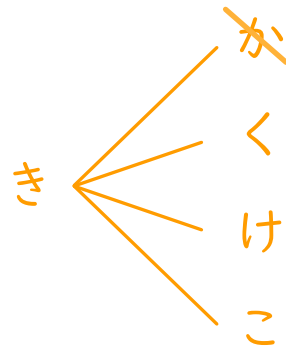
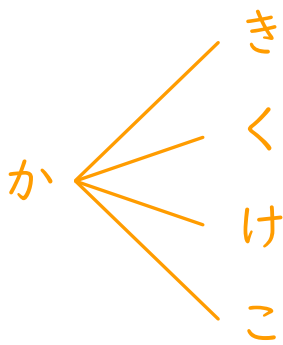
10

日にち： 月 日

名まえ _____

・か、き、く、け、この5つのひらがなから、2つ選びます。
次の問いに答えましょう。

① どんな組み合わせがありますか。図にまとめましょう。



② ひらがなの組み合わせは全部で何通りありますか。

答え (10通り)