



並べ方と
組み合わせ方 6

● 2つ選ぶ組み合わせ
(樹形図)






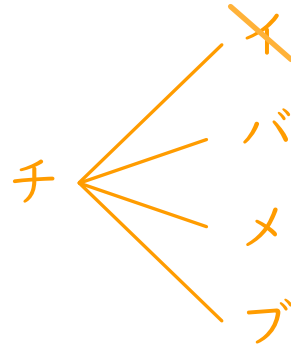

日にち： 月 日

名まえ _____

・イチゴ、チョコ、バナナ、メロン、ブドウの5つの味から、2つ選びます。次の問いに答えましょう。

① どんな組み合わせがありますか。図にまとめましょう。

イチゴ ⇒ イ チョコ ⇒ チ バナナ ⇒ バ
メロン ⇒ メ ブドウ ⇒ ブ



② 味の組み合わせは全部で何通りありますか。

答え (10通り)