



拡大図と縮図 5

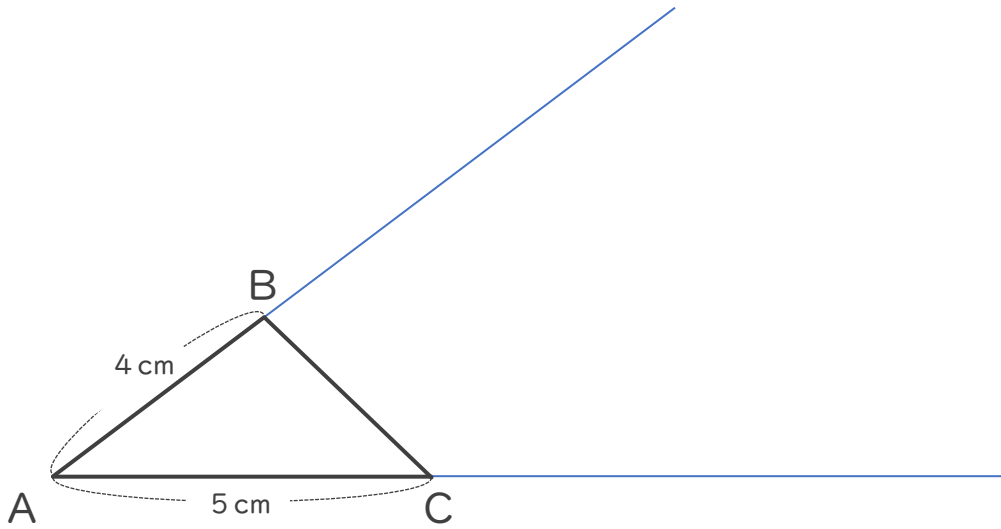
12

● ある頂点を中心とした
拡大図の作図


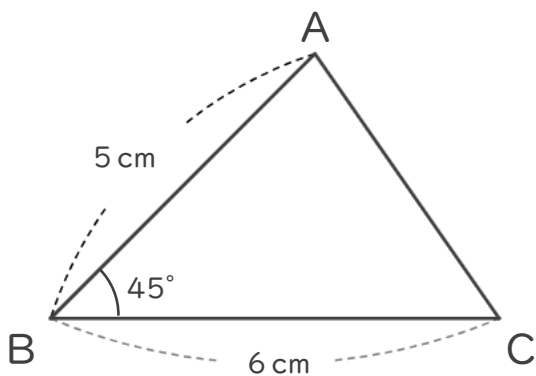
日にち： 月 日

名まえ _____

1 次の三角形ABCの2倍の拡大図を頂点Aを中心にしてかきましょう。



2 次の図形の $\frac{1}{2}$ の縮図を書きましょう。





拡大図と縮図 5

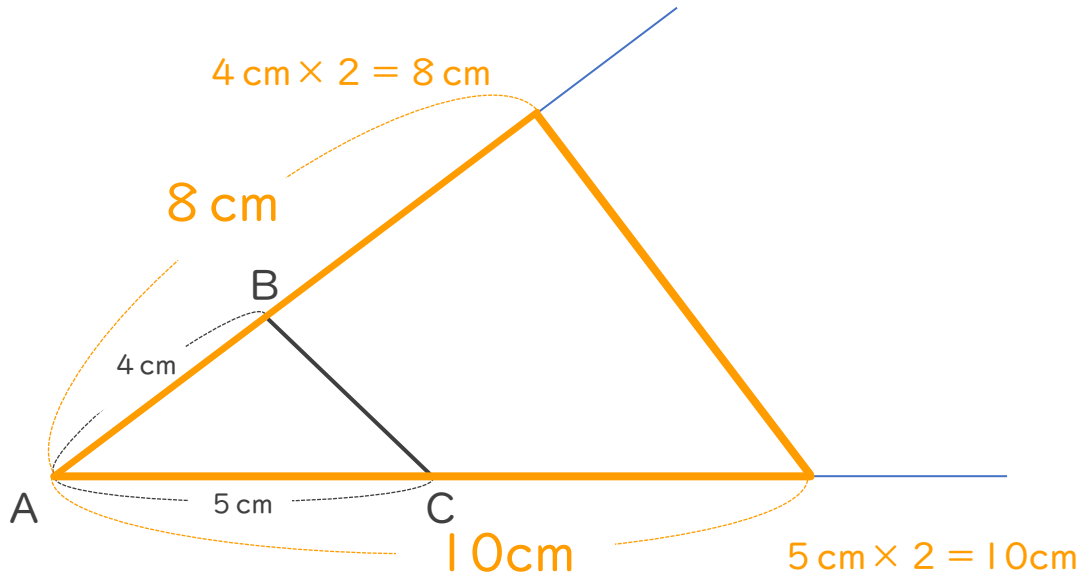
● ある頂点を中心とした
拡大図の作図

12

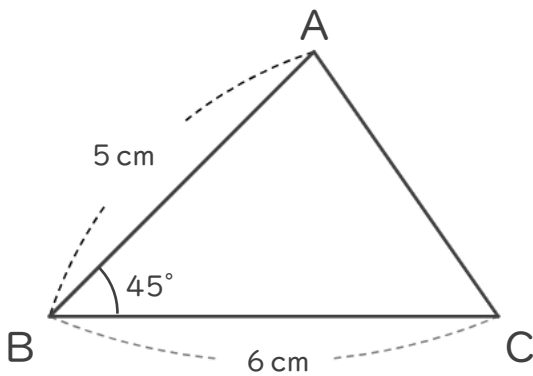
日にち： 月 日

名まえ _____

1 次の三角形ABCの2倍の拡大図を頂点Aを中心にしてかきましょう。



2 次の図形の $\frac{1}{2}$ の縮図を書きましょう。



$$6 \text{ cm} \times \frac{1}{2} = 3 \text{ cm}$$

$$5 \text{ cm} \times \frac{1}{2} = 2.5 \text{ cm}$$

