



対称な図形8

◎ 点対称な図形を見つける

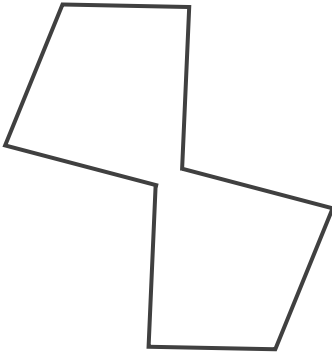


日にち： 月 日

名まえ _____

1 次の図で、点対称な図形には○、点対称な図形ではないものには×と答えなさい。また、○をつけた図形には対称の中心Oをかきいれなさい。

①



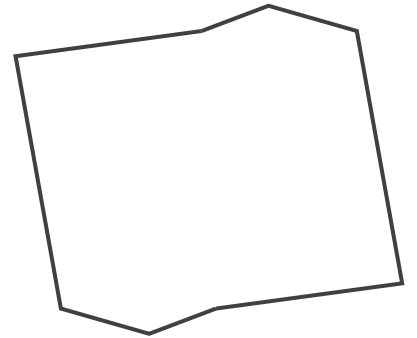
答え： _____

②



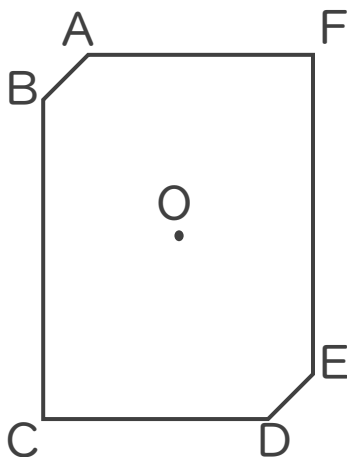
答え： _____

③



答え： _____

2 次の点対称な図形を、点Oを中心にして、180°回転させたときの重なりについて調べましょう。



① 点Aと重なる点はどれですか。

答え： _____

② 直線BCと重なる直線はどれですか。

答え： _____



対称な図形8

◎ 点対称な図形を見つける

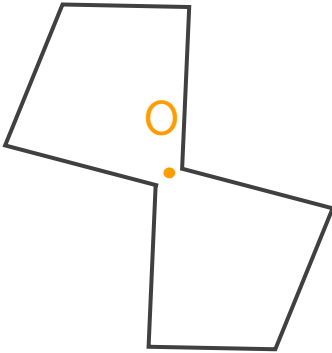
12

日にち： 月 日

名まえ _____


1 次の図で、点対称な図形には○、点対称な図形ではないものには×と答えなさい。また、○をつけた図形には対称の中心○をかきいれなさい。

①



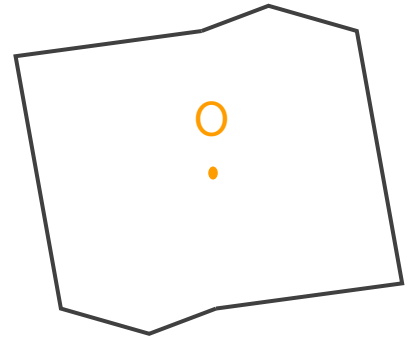
答え： ○

②



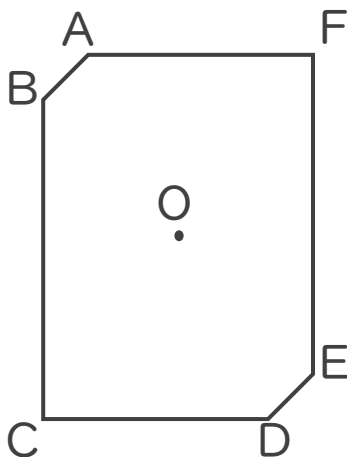
答え： ×

③



答え： ○

2 次の点対称な図形を、点Oを中心にして、180°回転させたときの重なりについて調べましょう。



① 点Aと重なる点はどれですか。

答え： 点D

② 直線BCと重なる直線はどれですか。

答え： 直線EF

