



およその 面積と体積 3

◎ 立体に見立てて
およその面積を求める

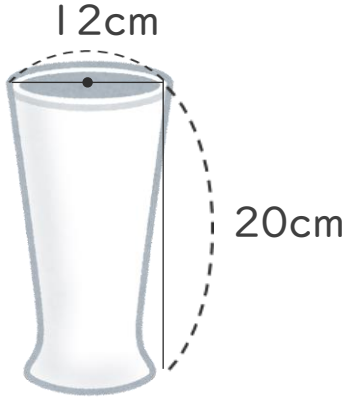


日にち： 月 日

名まえ _____

1 およその容積や体積を求めましょう。

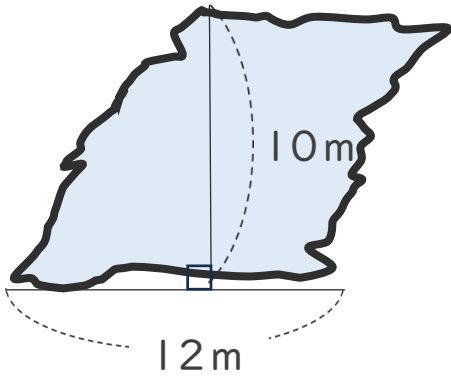
①



式：

答え： 約 _____

2 次の図のような形の湖の面積は、およそ何km²ですか。



式：

答え： 約 _____



およその 面積と体積 3

◎ 立体に見立てて
およその面積を求める

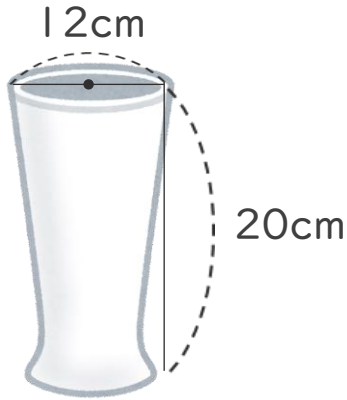


日にち： 月 日

名まえ _____

1 およその容積や体積を求めましょう。

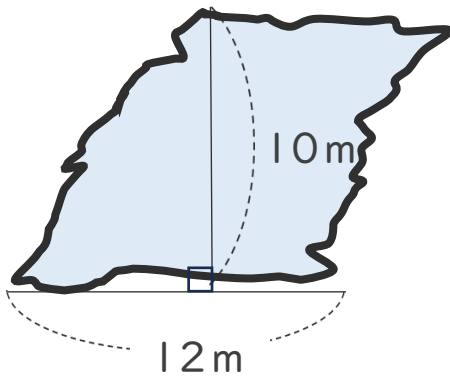
①



$$\text{式： } 6 \times 6 \times 3.14 \times 20 = 2260.8$$

答え： 約 2260.8 cm^3

2 次の図のような形の湖の面積は、およそ何 km^2 ですか。



$$\text{式： } 12 \times 10 \div 2 = 60$$

答え： 約 60 m^2