



## 対称な図形3

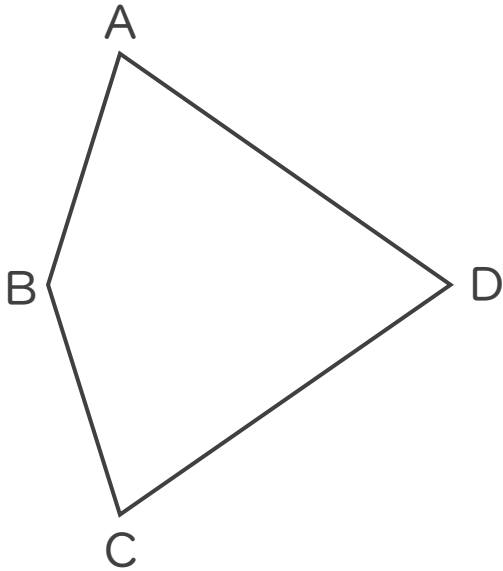
◎ 線対称な図形の  
対応する点



日にち：            月            日

名まえ \_\_\_\_\_

1 次の図は線対称です。次の問いに答えましょう。



① 点Aに対応する点はどれでしょうか。

答え： \_\_\_\_\_

② 辺ABに対応する辺はどれでしょうか。

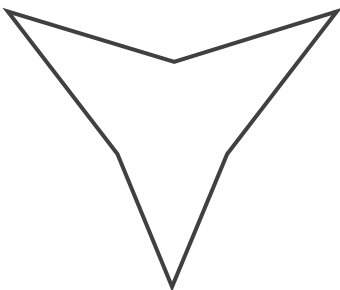
答え： \_\_\_\_\_

③ 対称の軸と直線ACはどのように交わる  
でしょうか。

答え： \_\_\_\_\_

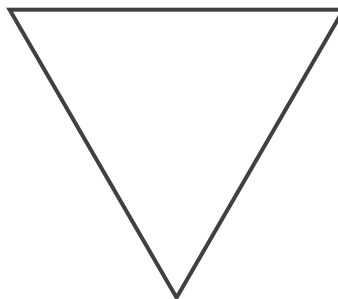
2 次の図で、線対称な図には○、線対称な図形ではないものには×と答えな  
さい。また、○をつけた図形には対称の軸をすべてかき入れなさい。

①




答え： \_\_\_\_\_

②



答え： \_\_\_\_\_

③



答え： \_\_\_\_\_





# 対称な図形3

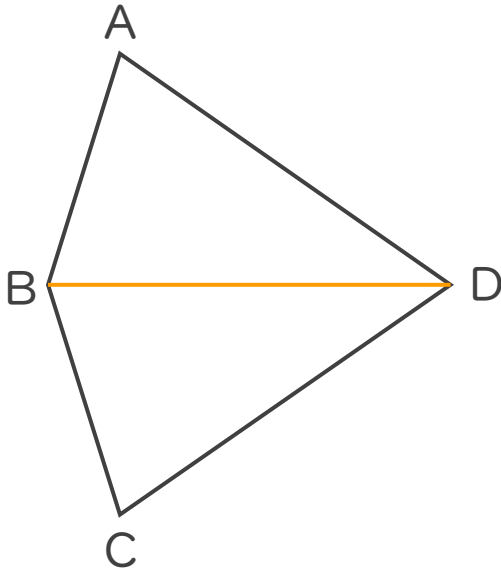
◎ 線対称な図形の  
対応する点



日にち：      月      日

名まえ \_\_\_\_\_

1 次の図は線対称です。次の問いに答えましょう。



① 点Aに対応する点はどれでしょうか。

答え： 点C

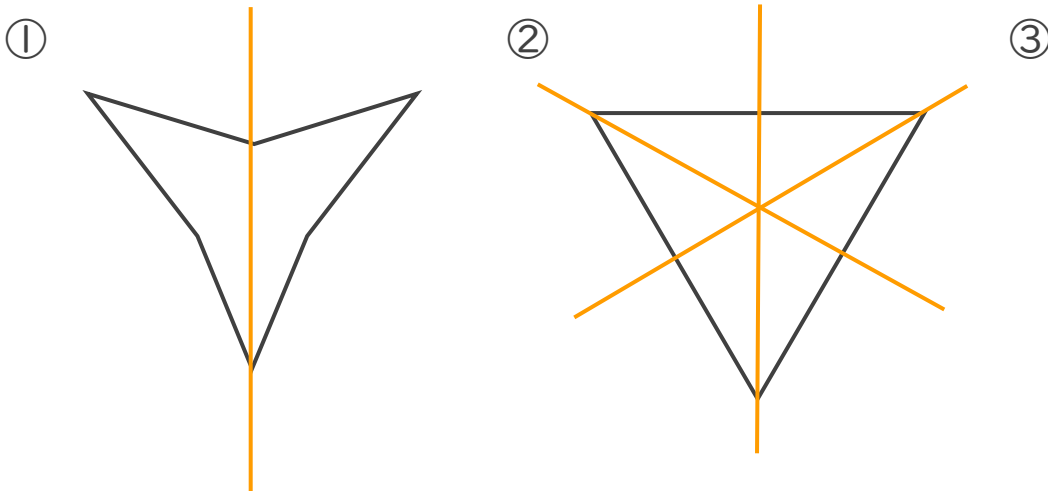
② 辺ABに対応する辺はどれでしょうか。

答え： 辺CB

③ 対称の軸と直線ACはどのように交わるでしょうか。

答え： 垂直

2 次の図で、線対称な図には○、線対称な図形ではないものには×と答えなさい。また、○をつけた図形には対称の軸をすべてかき入れなさい。



答え： ○

答え： ○

答え： ×

