



並べ方と 組み合わせ方 6

● 2つ選ぶ組み合わせ
(樹形図)

12


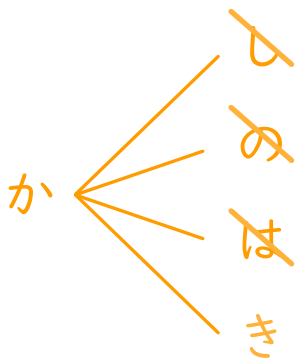
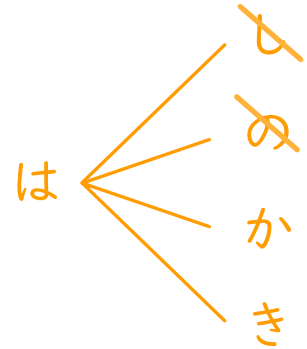
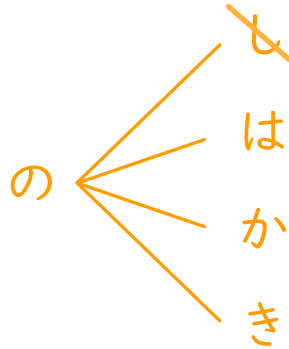
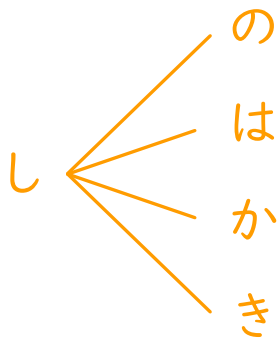
日にち： 月 日

名まえ _____

・しお、のり、はちみつ、カレー、キャラメルの5つの味から、2つ選びます。次の問いに答えましょう。

① どんな組み合わせがありますか。図にまとめましょう。

<u>し</u> お ⇒ し	<u>の</u> り ⇒ の	<u>は</u> ちみつ ⇒ は
<u>カ</u> レー ⇒ か	<u>キ</u> ャラメル ⇒ き	



② 味の組み合わせは全部で何通りありますか。

答え (10通り)