



並べ方と
組み合わせ方 6

● 2つ選ぶ組み合わせ
(樹形図)

12

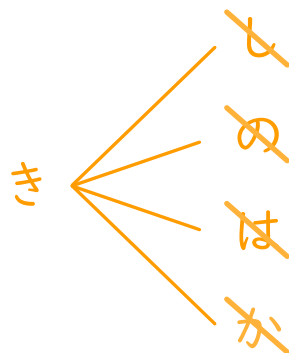
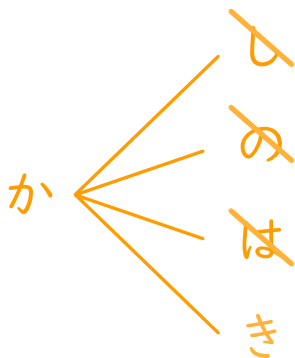
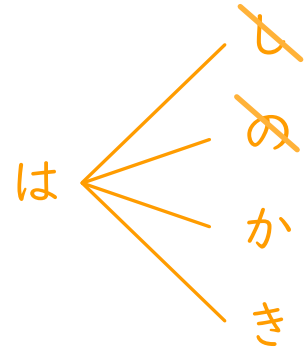
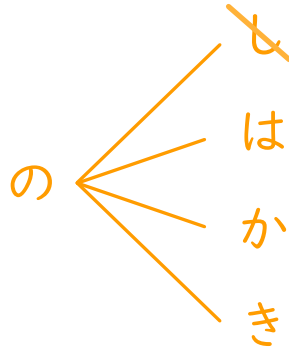
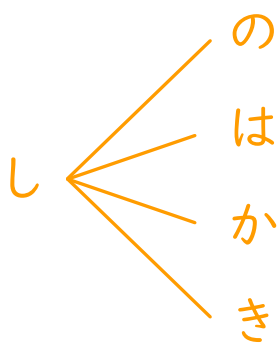
日にち： 月 日

名まえ _____

・しお、のり、はちみつ、カレー、キャラメルの5つの味から、
2つ選びます。次の問いに答えましょう。

① どんな組み合わせがありますか。図にまとめましょう。

しお ⇒ し	のり ⇒ の	はちみつ ⇒ は
カレー ⇒ か	キャラメル ⇒ き	



② 味の組み合わせは全部で何通りありますか。

答え (10通り)