



およその
面積と体積 3

◎ 立体に見立てて
およその面積を求める

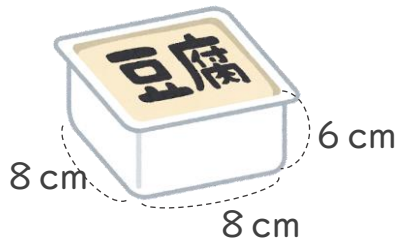


日にち： 月 日

名まえ _____

1 およその容積や体積を求めましょう。

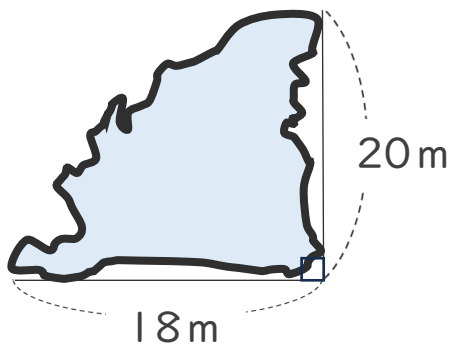
①



式：

答え： 約 _____

2 次の図のような形の湖の面積は、およそ何 km^2 ですか。



式：

答え： 約 _____



およその 面積と体積③

◎ 立体に見立てて
およその面積を求める

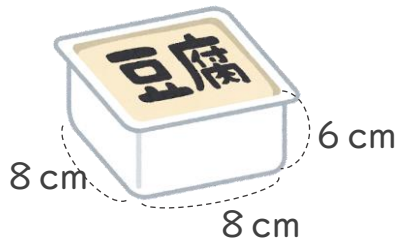


日にち： 月 日

名まえ _____

1 およその容積や体積を求めましょう。

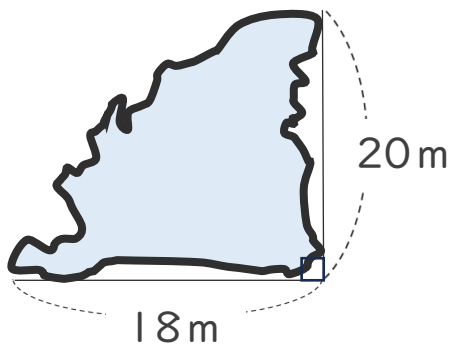
①



$$\text{式： } 8 \times 8 \times 6 = 384$$

答え： 約 **384** cm^3

2 次の図のような形の湖の面積は、およそ何 km^2 ですか。



$$\text{式： } 18 \times 20 \div 2 = 180$$

答え： 約 **180** m^2