



対称な図形3

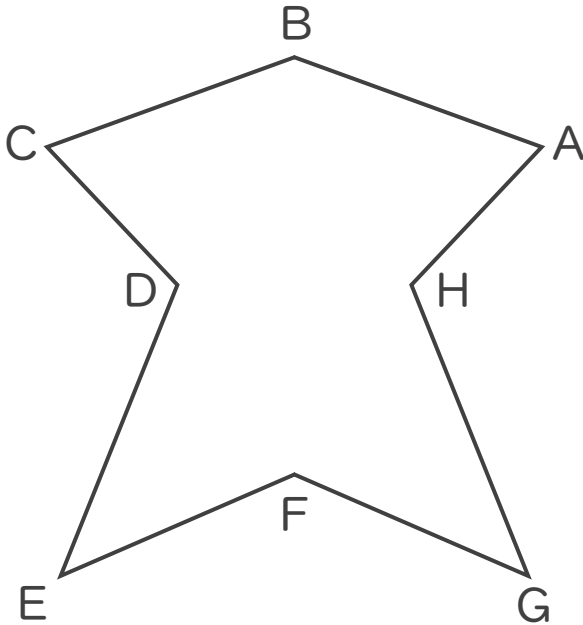
◎ 線対称な図形の
対応する点



日にち： 月 日

名まえ _____

1 次の図は線対称です。次の問いに答えましょう。



① 点Hに対応する点はどれでしょうか。

答え： _____

② 辺AHに対応する辺はどれでしょうか。

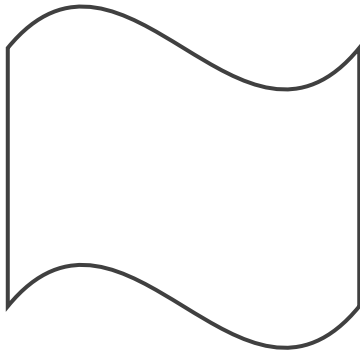
答え： _____

③ 対称の軸と直線ACはどのように交わる
でしょうか。

答え： _____


2 次の図で、線対称な図には○、線対称な図形ではないものには×と答えな
さい。また、○をつけた図形には対称の軸をすべてかき入れなさい。

①



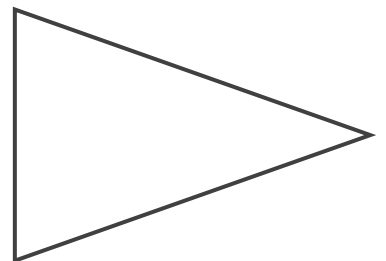
答え： _____

②



答え： _____

③



答え： _____





対称な図形3

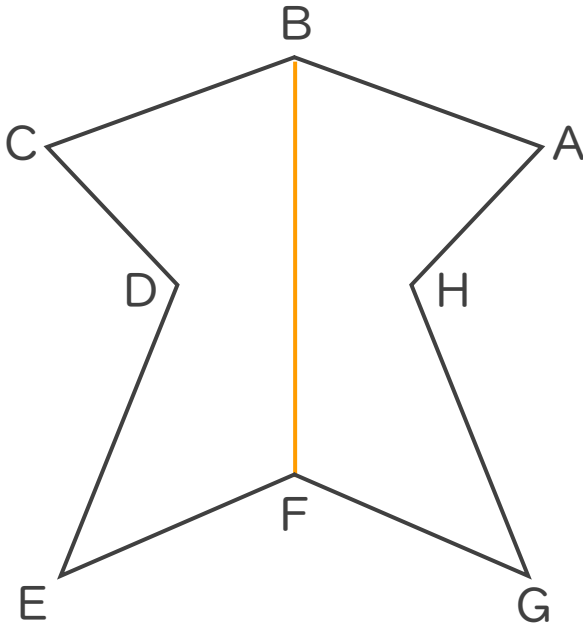
◎ 線対称な図形の
対応する点



日にち： 月 日

名まえ _____

1 次の図は線対称です。次の問いに答えましょう。



① 点Hに対応する点はどれでしょうか。

答え： 点D

② 辺AHに対応する辺はどれでしょうか。

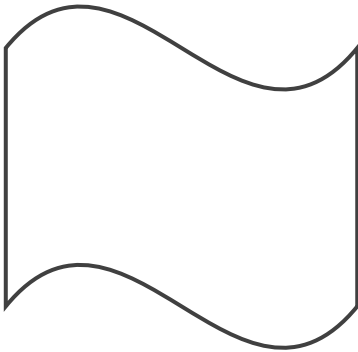
答え： 辺CD

③ 対称の軸と直線ACはどのように交わる
でしょうか。

答え： 垂直

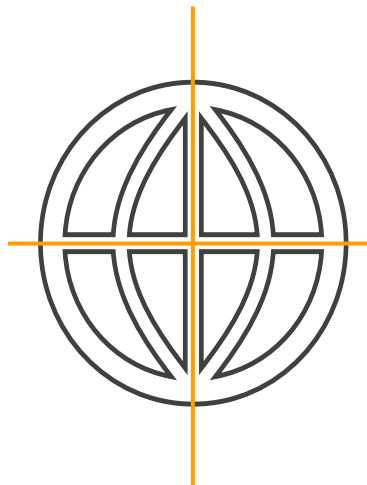
2 次の図で、線対称な図には○、線対称な図形ではないものには×と答えな
さい。また、○をつけた図形には対称の軸をすべてかき入れなさい。

①



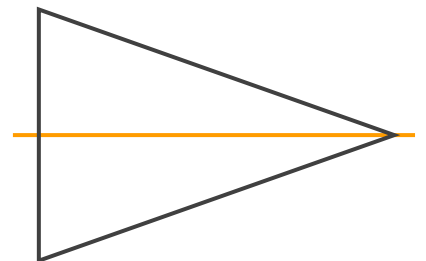
答え： ×

②



答え： ○

③



答え： ○

