



対称な図形2

13


線対称の軸

日にち： 月 日

名まえ _____

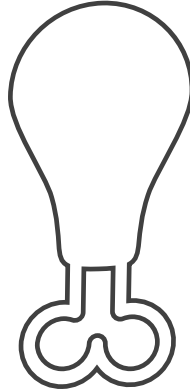
・次の図で、線対称な図には○、線対称な図形ではないものには×と答えなさい。また、○をつけた図形には対称の軸をすべてかき入れなさい。

①




答え： _____

②



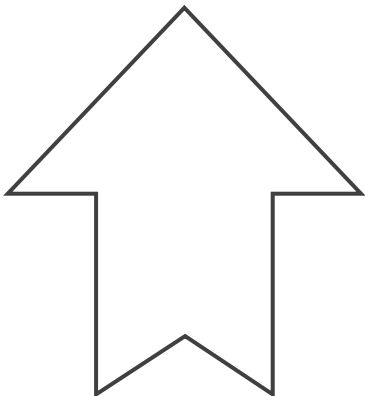
答え： _____

③



答え： _____

④



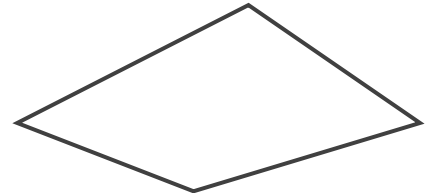
答え： _____

⑤



答え： _____

⑥



答え： _____





対称な図形2

13

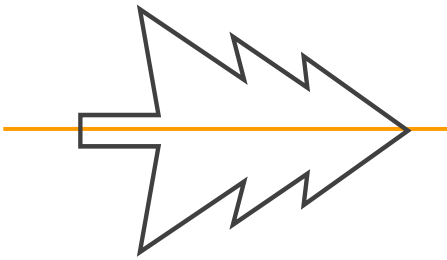
線対称の軸

日にち： 月 日

名まえ _____

・次の図で、線対称な図には○、線対称な図形ではないものには×と答えなさい。また、○をつけた図形には対称の軸をすべてかき入れなさい。


①



答え：




②



答え：



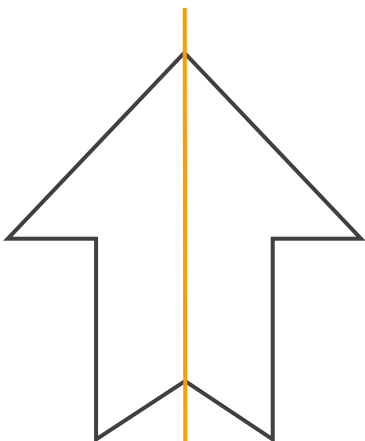
③



答え：




④



答え：



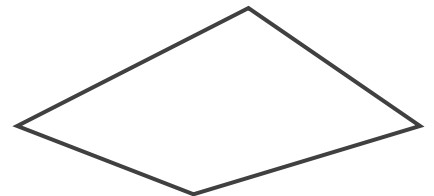
⑤



答え：



⑥



答え：

