



並べ方と
組み合わせ方 6

● 2つ選ぶ組み合わせ
(樹形図)

13

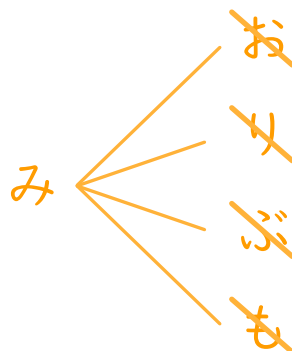

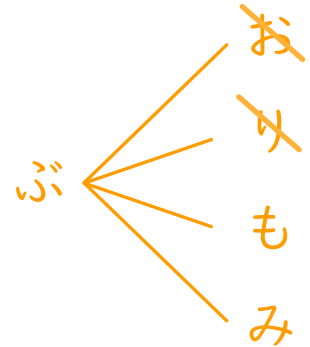
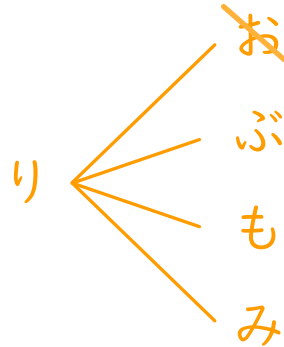
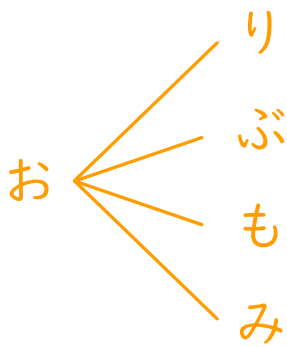
日にち： 月 日

名まえ _____

・ オレンジ、りんご、ぶどう、もも、みかんの5つのジュースから、
2つ選びます。次の問いに答えましょう。

① どんな組み合わせがありますか。図にまとめましょう。

オレンジ ⇒ お りんご ⇒ り ぶどう ⇒ ぶ
もも ⇒ も みかん ⇒ み



② ジュースの組み合わせは全部で何通りありますか。

答え (10通り)