





# 並べ方と 組み合わせ方 6

● 2つ選ぶ組み合わせ  
(樹形図)

# 13

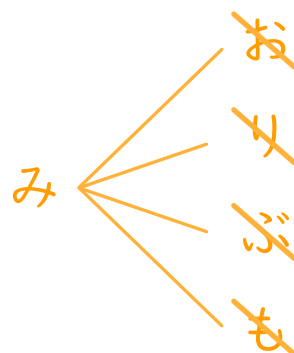

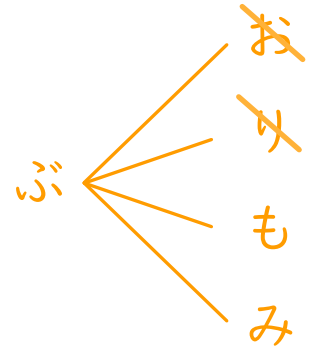
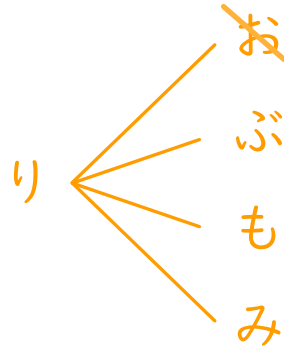
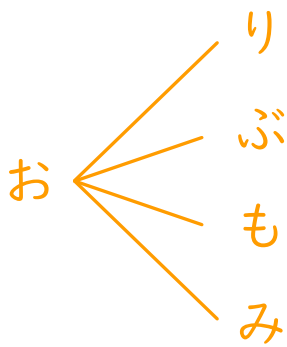
日にち：            月            日

名まえ \_\_\_\_\_

・ オレンジ、りんご、ぶどう、もも、みかんの5つのジュースから、  
2つ選びます。次の問いに答えましょう。

① どんな組み合わせがありますか。図にまとめましょう。

オレンジ ⇒ お    りんご ⇒ り    ぶどう ⇒ ぶ  
もも ⇒ も        みかん ⇒ み



② ジュースの組み合わせは全部で何通りありますか。

答え (    10通り    )

