



対称な図形5

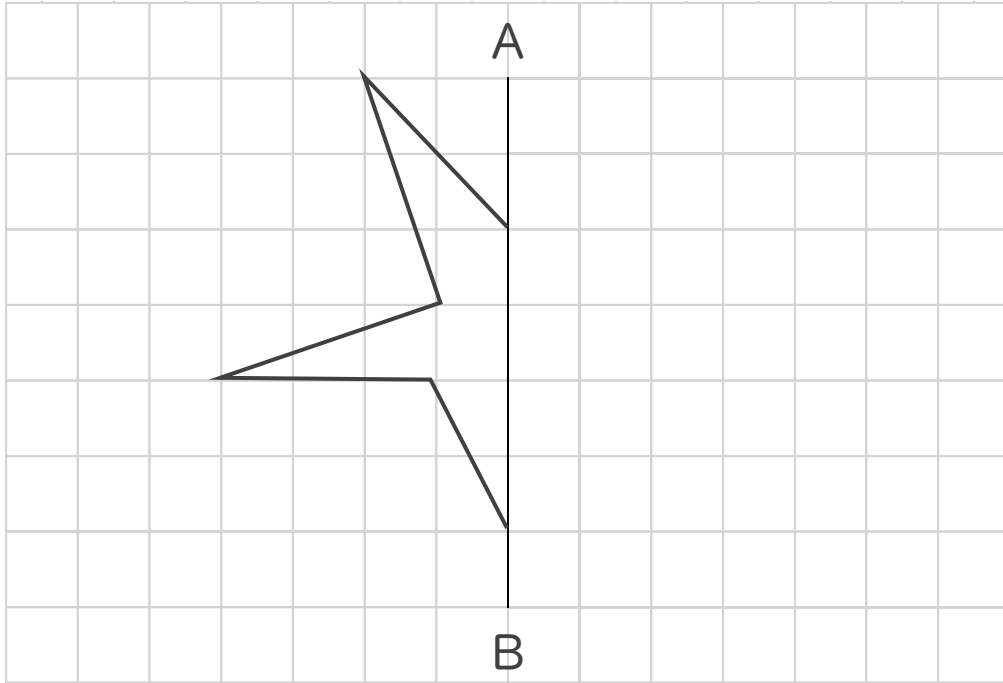
● 線対称な図形の作図
(マス目あり)



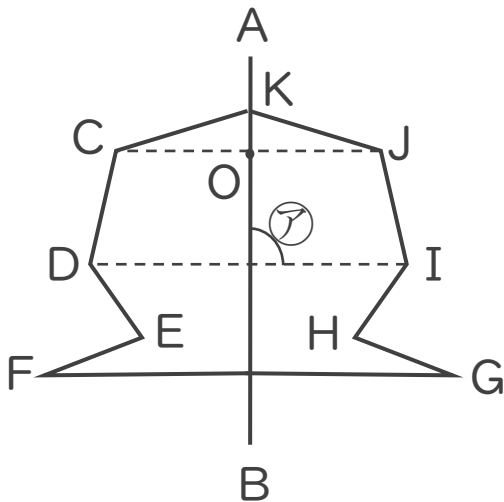
日にち： 月 日

名まえ _____

1 直線ABを対称の軸として、線対称な図形をかきなさい。



2 次の図は線対称な図形で、直線ABは対称の軸です。



① ①の角の大きさは何度ですか。

答え： _____

② 直線COと長さの等しい直線はどれですか。

答え： _____



対称な図形5

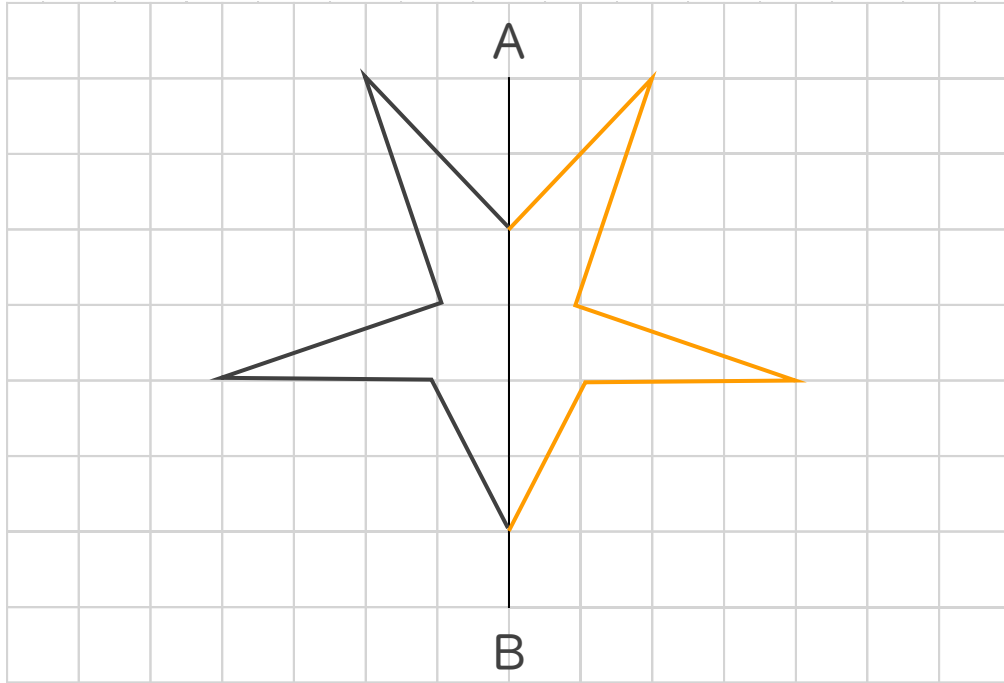
● 線対称な図形の作図
(マス目あり)



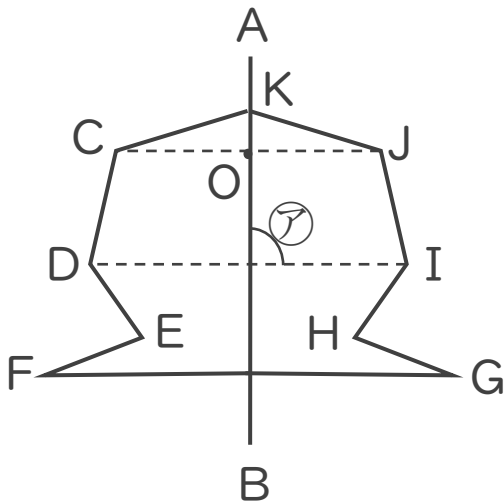
日にち： 月 日

名まえ _____

1 直線ABを対称の軸として、線対称な図形をかきなさい。



2 次の図は線対称な図形で、直線ABは対称の軸です。



① α の角の大きさは何度ですか。

答え： 90°

② 直線COと長さの等しい直線はどれですか。

答え： 直線JO