



並べ方と
組み合わせ方 6

● 2つ選ぶ組み合わせ
(樹形図)

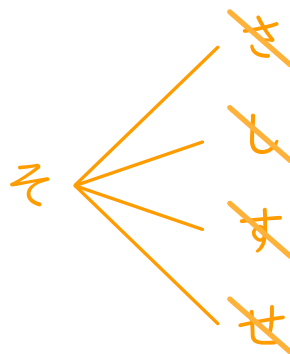

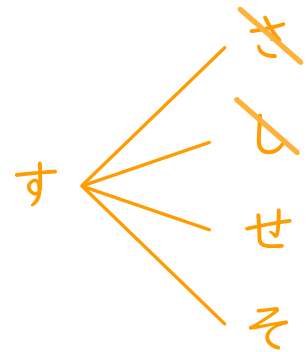
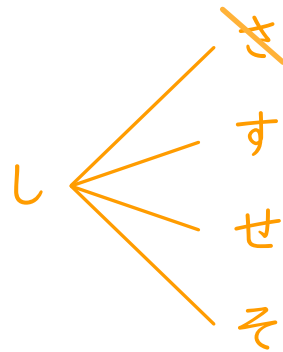
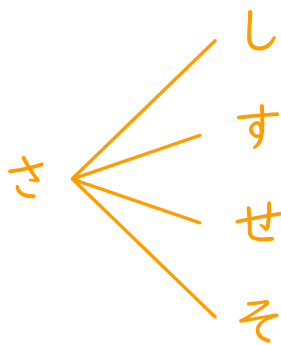
14

日にち： 月 日

名まえ _____

・ さ, し, す, せ, その5つのひらがなから、2つ選びます。
次の問いに答えましょう。

① どんな組み合わせがありますか。図にまとめましょう。



② ひらがなの組み合わせは全部で何通りありますか。

答え (10通り)

