


# 拡大図と縮図 6

ある頂点を中心とした縮図の作図

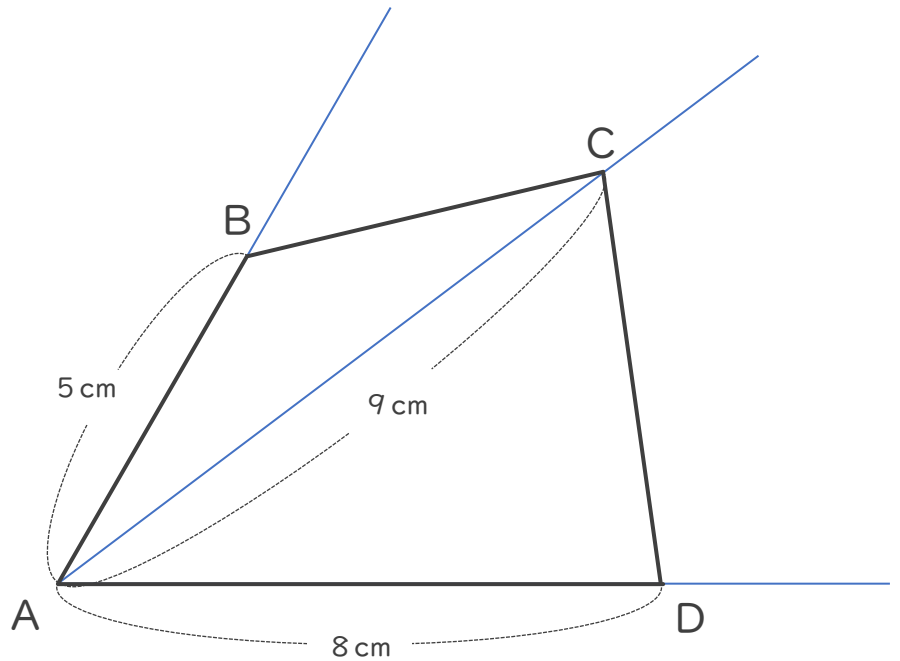
15

めざせ100点!

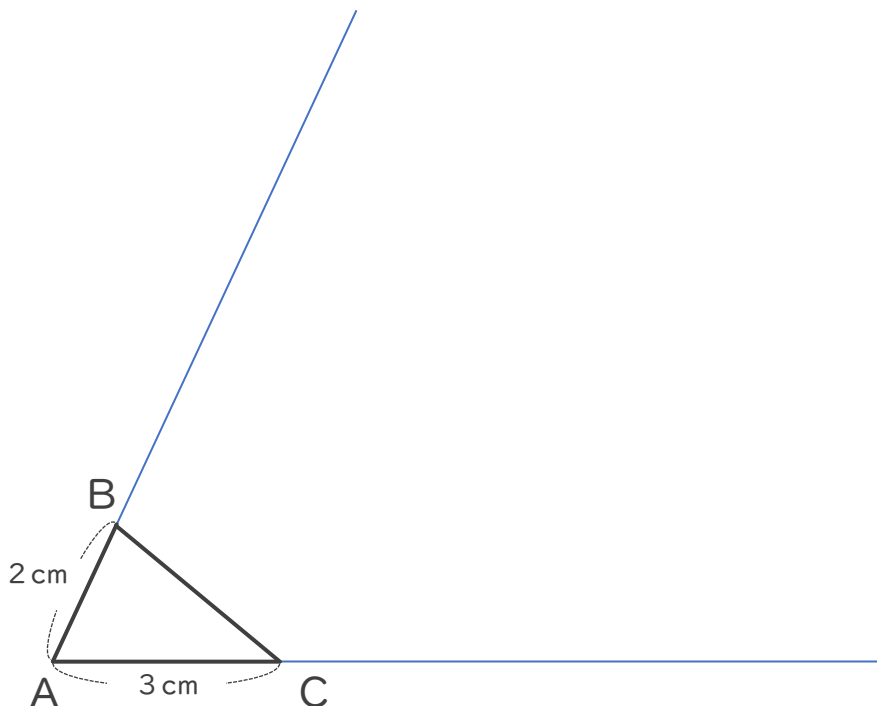



名まえ \_\_\_\_\_

1 次の四角形ABCDの  $\frac{1}{2}$  の縮図を頂点Aを中心にしてかきましょう。  
(各50点)



2 次の図形の3倍の拡大図を書きましょう。(各50点)






# 拡大図と縮図 6

ある頂点を中心とした縮図の作図

15

めざせ100点!



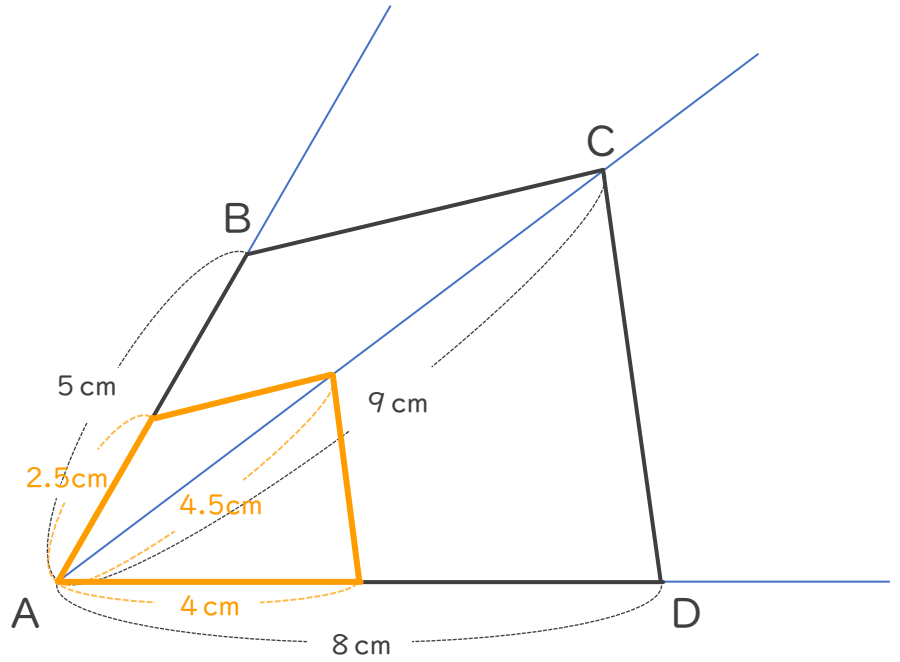
名まえ

1 次の四角形ABCDの  $\frac{1}{2}$  の縮図を頂点Aを中心にしてかきましょう。  
(各50点)

$5\text{ cm} \times \frac{1}{2} = 2.5\text{ cm}$

$9\text{ cm} \times \frac{1}{2} = 4.5\text{ cm}$

$8\text{ cm} \times \frac{1}{2} = 4\text{ cm}$



2 次の図形の3倍の拡大図を書きましょう。(各50点)

$2\text{ cm} \times 3 = 6\text{ cm}$

$6\text{ cm}$

$2\text{ cm}$

$A$

$3\text{ cm}$

$C$

$9\text{ cm}$

$3\text{ cm} \times 3 = 9\text{ cm}$

