



# データの調べ方 8

●データの中央値 (メジアン)

15

めざせ80点!



名まえ \_\_\_\_\_

次のデータの中央値 (メジアン) を求めましょう。(式・答え 各20点)

1

3	10	9	5	4
5	15	8	11	

答え ( )

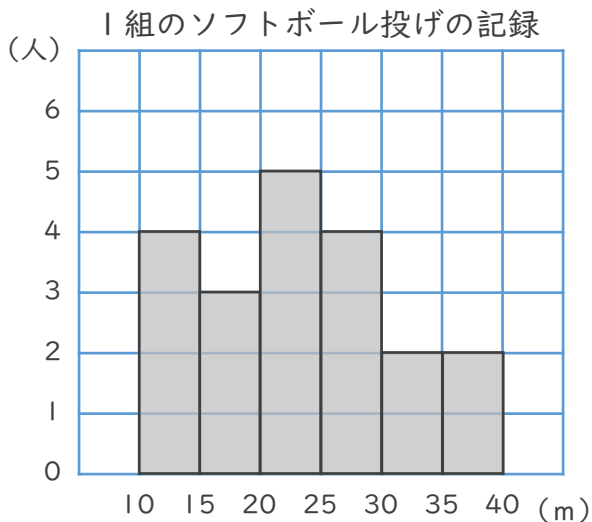
2

20	25	14	27	19
10	15	5	30	35

式:

答え ( )

3 下のヒストグラムを見て、次の問いに答えましょう。



① 1組の人数は何人ですか。

答え ( )

② 記録が20m未満の人は何人ですか。

答え ( )






# データの調べ方 8

● データの中央値 (メジアン)

15

めざせ80点!



名まえ \_\_\_\_\_

次のデータの中央値 (メジアン) を求めましょう。(式・答え 各20点)

1

3	10	9	5	4
5	15	8	11	

データの値を小さい順に並べると・・・

3, 4, 5, 5, 8, 9, 11, 10, 15

答え ( 8 )

2

20	25	14	27	19
10	15	5	30	35

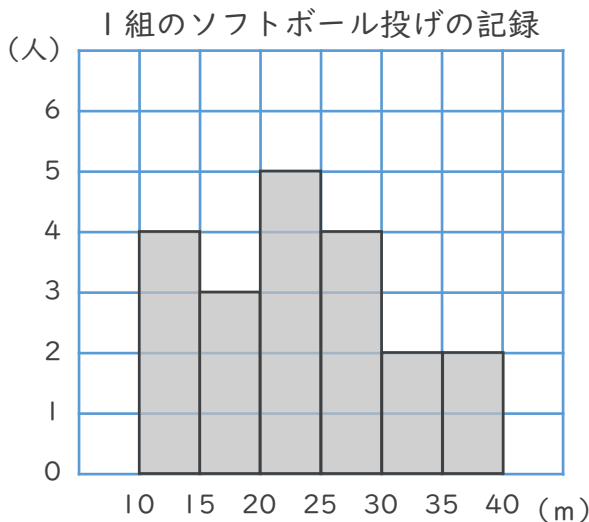
データの値を小さい順に並べると・・・

5, 10, 14, 15, 19, 20, 25, 27, 30, 35

式:  $(19 + 20) \div 2 = 19.5$

答え ( 19.5 )

3 下のヒストグラムを見て、次の問いに答えましょう。



① 1組の人数は何人ですか。

答え ( 20人 )

② 記録が20m未満の人は何人ですか。

答え ( 7人 )

