

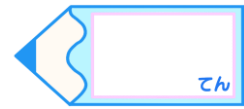


分数のわり算 21

◎ 整数÷分数の文章問題

15

目指せ80点!



名まえ _____

・ 次の数の逆数を求めましょう。(各20点)

① $\frac{1}{4}$

逆数：

④ 0.7

逆数：

② 0.19



逆数：

⑤ 2

逆数：

③ 3.7

逆数：





分数のわり算 21

◎ 整数÷分数の文章問題

15

目指せ80点!



名まえ _____

・ 次の数の逆数を求めましょう。(各20点)

① $\frac{1}{4}$

逆数: 4

② $0.19 = \frac{19}{100}$

逆数: $\frac{100}{19}$

③ $3.7 = \frac{37}{10}$

逆数: $\frac{10}{37}$

④ $0.7 = \frac{7}{10}$

逆数: $\frac{10}{7}$

⑤ 2

逆数: $\frac{1}{2}$

