




およその  
面積と体積 3

◎ 立体に見立てて  
およその面積を求める

15

めざせ100点!

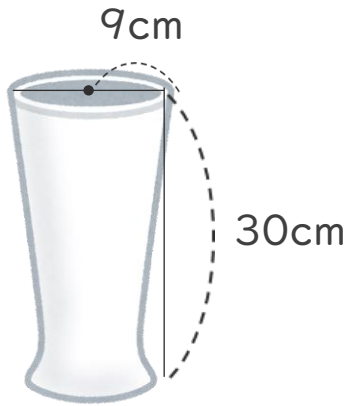


名まえ

---

1 およその容積や体積を求めましょう。(50点)

①

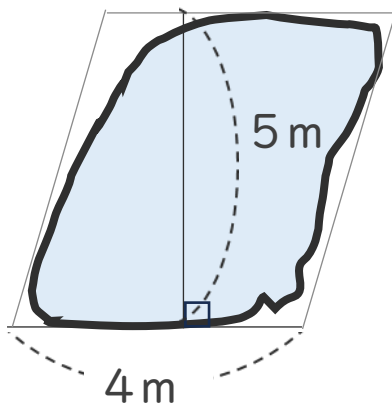


式：

答え：約

---

2 次の図のような形の池の面積は、およそ何 $m^2$ ですか。(50点)



式：

答え：約

---



およその  
面積と体積 3

◎ 立体に見立てて  
およその面積を求める

15

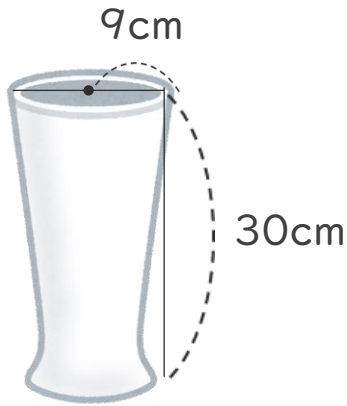
めざせ100点!



名まえ \_\_\_\_\_

1 およその容積や体積を求めましょう。(50点)

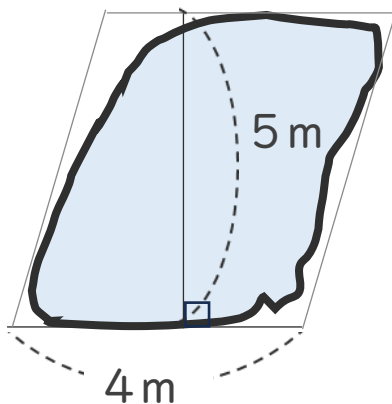
①



式： $9 \times 9 \times 3.14 \times 30 = 7630.2$

答え：約  $7630.2 \text{ cm}^3$

2 次の図のような形の池の面積は、およそ何 $\text{m}^2$ ですか。(50点)



式： $4 \times 5 = 20$

答え：約  $20 \text{ m}^2$