




対称な図形3

◎ 線対称な図形の
対応する点

15

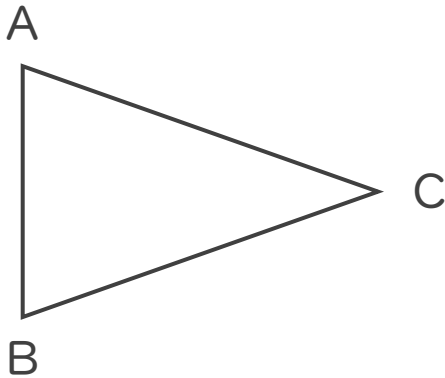
目指せ80点!



名まえ _____

1 次の図は線対称です。次の問いに答えましょう。

(各20点)



① 点Aに対応する点はどれでしょうか。

答え： _____

② 辺BCに対応する辺はどれでしょうか。

答え： _____


③ 対称の軸と直線ABはどのように交わる
でしょうか。

答え： _____

2 次の図で、線対称な図には○、線対称な図形ではないものには×と答えな
さい。また、○をつけた図形には対称の軸をすべてかき入れなさい。

①

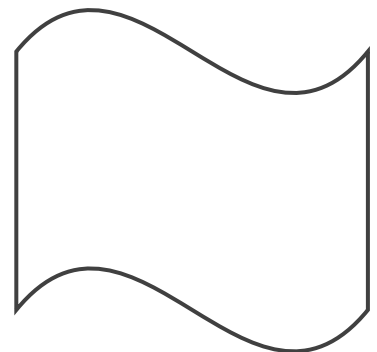
(20点)



答え： _____

②

(20点)



答え： _____





対称な図形3

◎ 線対称な図形の
対応する点

15

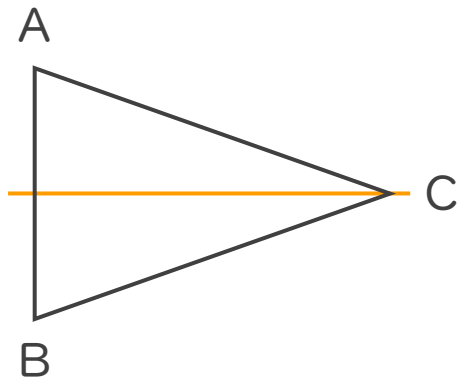
目指せ80点!



名まえ _____

1 次の図は線対称です。次の問いに答えましょう。

(各20点)



① 点Aに対応する点はどれでしょうか。

答え： 点B

② 辺BCに対応する辺はどれでしょうか。

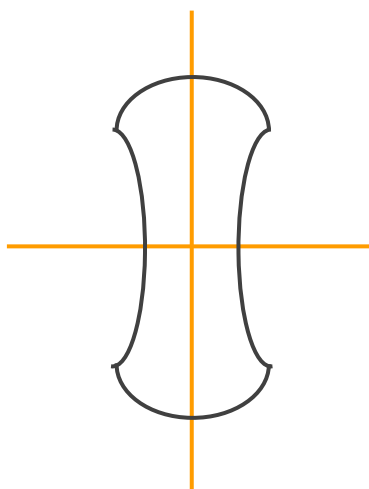
答え： 辺AC

③ 対称の軸と直線ABはどのように交わるでしょうか。

答え： 垂直

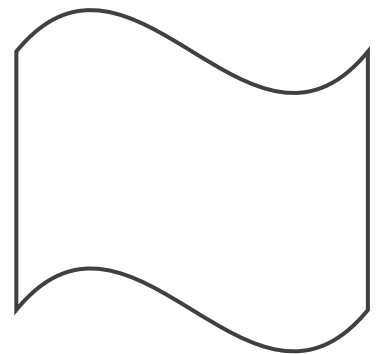
2 次の図で、線対称な図には○、線対称な図形ではないものには×と答えなさい。また、○をつけた図形には対称の軸をすべてかき入れなさい。

① (20点)



答え： ○

② (20点)



答え： ×

