




対称な図形2

15

目指せ80点!



線対称の軸

名まえ _____

・次の図で、線対称な図には○、線対称な図形ではないものには×と答えなさい。また、○をつけた図形には対称の軸をすべてかき入れなさい。
(各20点)

①




答え： _____

②




答え： _____

③



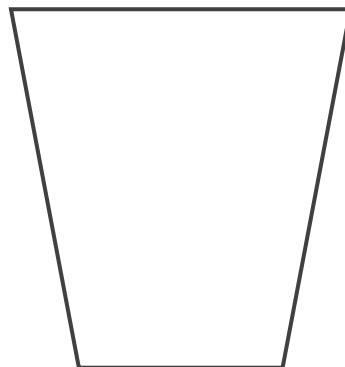
答え： _____

④



答え： _____

⑤



答え： _____






対称な図形2

15

目指せ80点!



線対称の軸

名まえ _____

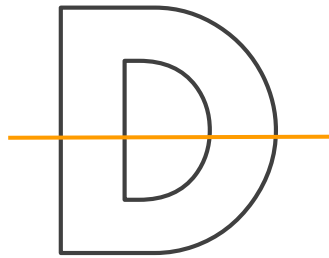
・次の図で、線対称な図には○、線対称な図形ではないものには×と答えなさい。また、○をつけた図形には対称の軸をすべてかき入れなさい。
(各20点)

①




答え： ×

②




答え： ○

③



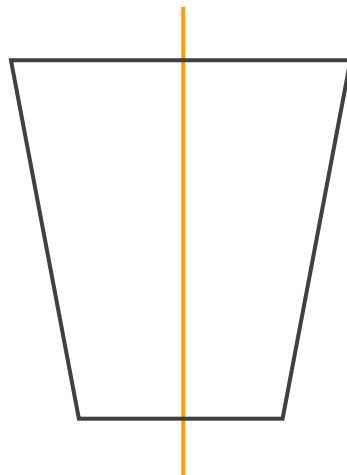
答え： ○

④



答え： ×

⑤



答え： ○

