



並べ方と
組み合わせ方 6

- 2つ選ぶ組み合わせ
(樹形図)

15

めざせ100点!



名まえ

・オレンジ、りんご、なし、もも、みかんの5つのフルーツから、
2つ選びます。次の問いに答えましょう。

① どんな組み合わせがありますか。図にまとめましょう。(70点)

② フルーツの組み合わせは全部で何通りありますか。(30点)

答え ()



並べ方と 組み合わせ方 6

● 2つ選ぶ組み合わせ
(樹形図)

15

めざせ100点!

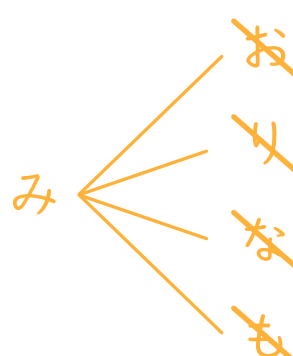
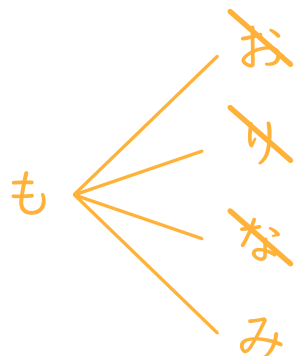
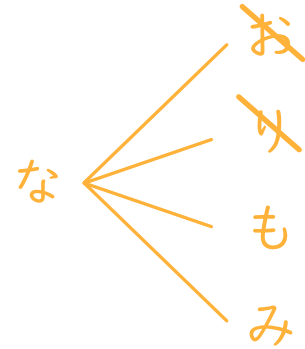
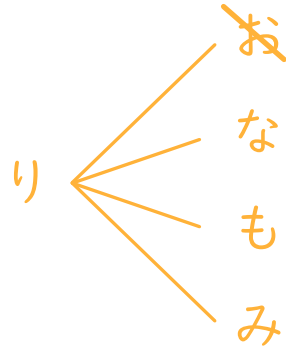
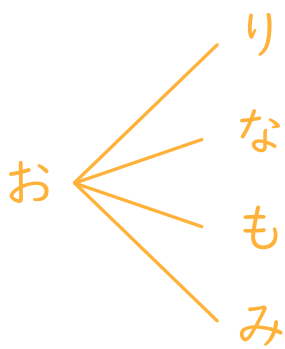


名まえ

・オレンジ、りんご、なし、もも、みかんの5つのフルーツから、
2つ選びます。次の問いに答えましょう。

① どんな組み合わせがありますか。図にまとめましょう。(70点)

オレンジ ⇒ オ りんご ⇒ リ なし ⇒ な
もも ⇒ も みかん ⇒ み



② フルーツの組み合わせは全部で何通りありますか。(30点)

答え (10通り)