


分数のかけ算26

◎ かけられる数と積の大きさ

16

目指せ50点!



名まえ

- 1 積が3より小さくなるのはどれですか。
すべて選び、記号で答えなさい。(50点)

ア $3 \times \frac{3}{4}$

イ $3 \times \frac{4}{17}$

ウ $3 \times \frac{14}{9}$


エ $3 \times \frac{8}{3}$

答え：

- 2 1kgの米をたくのに、 $\frac{9}{16}$ Lの水を使います。6kgの米をたくには、何Lの水が必要ですか。(50点)

式：

答え：




分数のかけ算26

◎ かけられる数と積の大きさ

16

目指せ50点!



名まえ _____

- 1 積が3より小さくなるのはどれですか。
すべて選び、記号で答えなさい。(50点)

ア $3 \times \frac{3}{4}$

イ $3 \times \frac{4}{17}$

ウ $3 \times \frac{14}{9}$

エ $3 \times \frac{8}{3}$

答え： アとイ

- 2 1kgの米をたくのに、 $\frac{9}{16}$ Lの水を使います。6kgの米をたくには、何Lの水が必要ですか。(50点)

$$\begin{aligned} \text{式：} \quad \frac{9}{16} \times 6 &= \frac{9 \times \cancel{6}^3}{\cancel{16}_8} \\ &= \frac{27}{8} \left(3 \frac{3}{8} \right) \end{aligned}$$

答え： $\frac{27}{8} \left(3 \frac{3}{8} \right)$ L