



およその  
面積と体積 3

◎ 立体に見立てて  
およその面積を求める

16

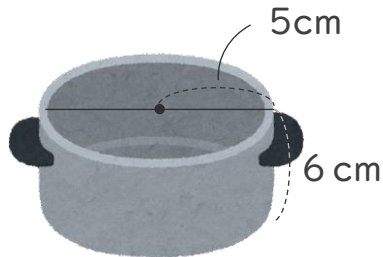
めざせ100点!



名まえ \_\_\_\_\_

1 およその容積や体積を求めましょう。(50点)

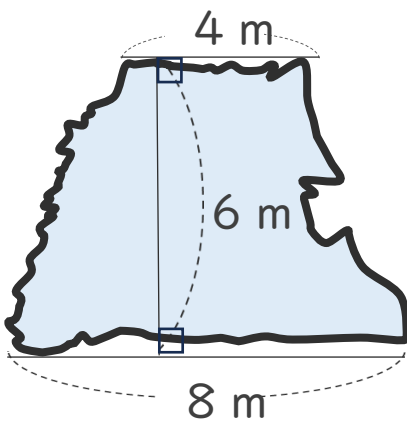
①



式：

答え：約 \_\_\_\_\_

2 次の図のような形の湖の面積は、およそ何 $\text{km}^2$ ですか。(50点)



式：

答え：約 \_\_\_\_\_



およその  
面積と体積 3

◎ 立体に見立てて  
およその面積を求める

16

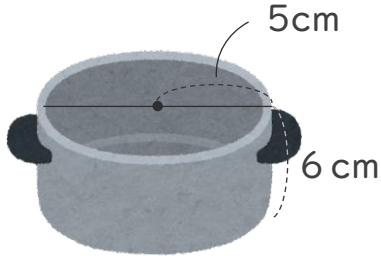
めざせ100点!



名まえ

1 およその容積や体積を求めましょう。(50点)

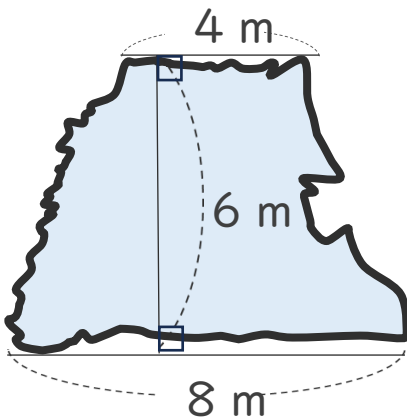
①



$$\text{式： } 5 \times 5 \times 3.14 \times 6 = 471$$

答え： 約 471  $\text{cm}^3$

2 次の図のような形の湖の面積は、およそ何 $\text{km}^2$ ですか。(50点)



$$\text{式： } (4 + 8) \times 6 \div 2 = 36$$

答え： 約 36  $\text{m}^2$