




対称な図形5

● 線対称な図形の作図
(マス目あり)

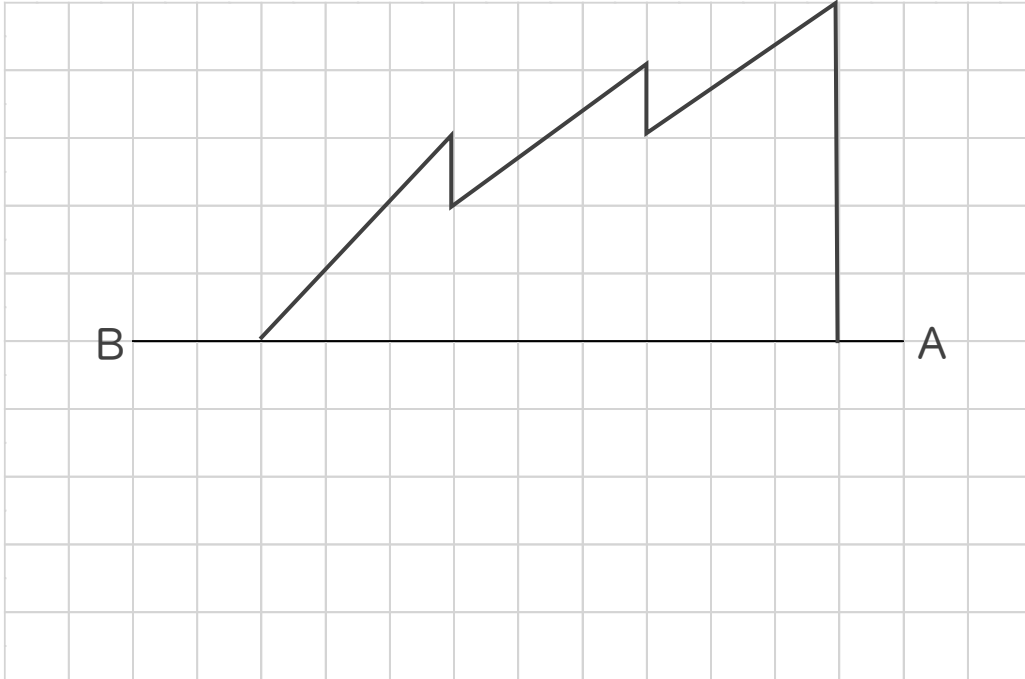
16

目指せ75点!

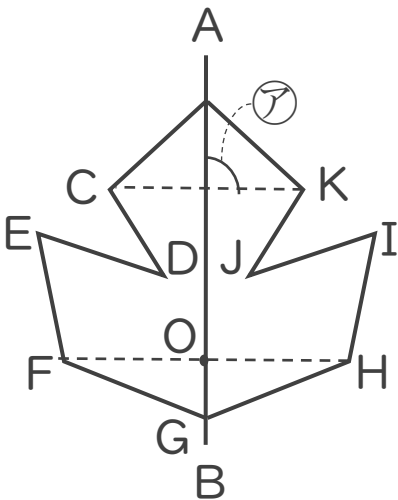


名まえ _____

1 直線ABを対称の軸として、線対称な図形をかきなさい。(50点)



2 次の図は線対称な図形で、直線ABは対称の軸です。(各25点)



① ①の角の大きさは何度ですか。

答え： _____

② 直線FOと長さの等しい直線はどれですか。

答え： _____




対称な図形5

● 線対称な図形の作図
(マス目あり)

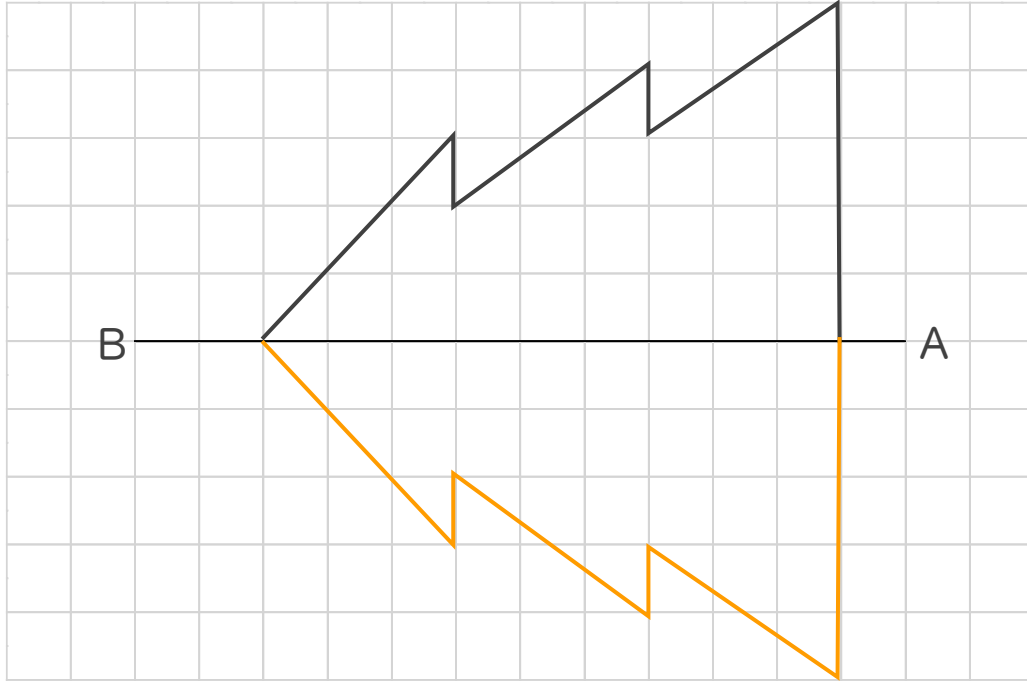
16

目指せ75点!

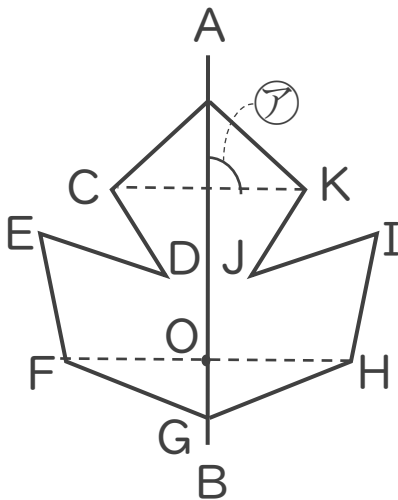


名まえ

1 直線ABを対称の軸として、線対称な図形をかきなさい。(50点)



2 次の図は線対称な図形で、直線ABは対称の軸です。(各25点)



① ①の角の大きさは何度ですか。

答え: 90°

② 直線FOと長さの等しい直線はどれですか。

答え: 直線HO