




対称な図形3

◎ 線対称な図形の
対応する点

16

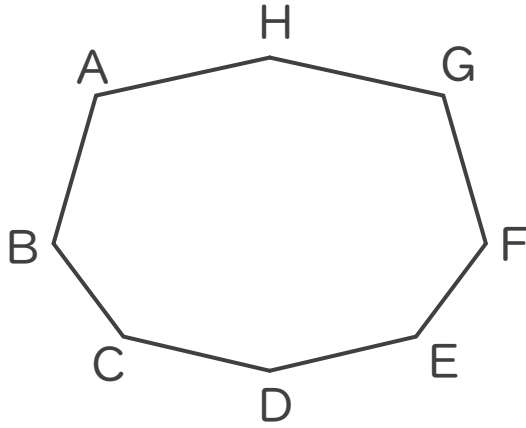
目指せ80点!



名まえ _____

1 次の図は線対称です。次の問いに答えましょう。

(各20点)



① 点Cに対応する点はどれでしょうか。

答え： _____

② 辺CDに対応する辺はどれでしょうか。

答え： _____


③ 対称の軸と直線BDはどのように交わる
でしょうか。

答え： _____

2 次の図で、線対称な図には○、線対称な図形ではないものには×と答えな
さい。また、○をつけた図形には対称の軸をすべてかき入れなさい。

①

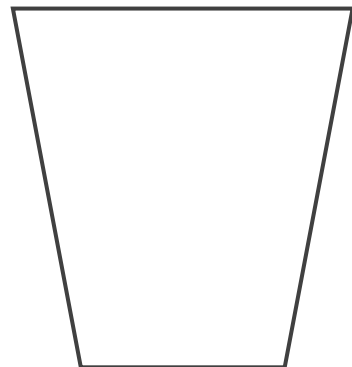
(20点)



答え： _____

②

(20点)



答え： _____






対称な図形3

◎ 線対称な図形の
対応する点

16

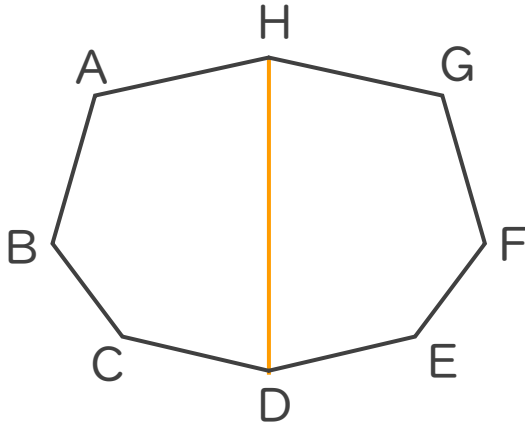
目指せ80点!



名まえ

1 次の図は線対称です。次の問いに答えましょう。

(各20点)



① 点Cに対応する点はどれでしょうか。

答え： 点E

② 辺CDに対応する辺はどれでしょうか。

答え： 辺ED

③ 対称の軸と直線BDはどのように交わる
でしょうか。

答え： 垂直

2 次の図で、線対称な図には○、線対称な図形ではないものには×と答えな
さい。また、○をつけた図形には対称の軸をすべてかき入れなさい。

①

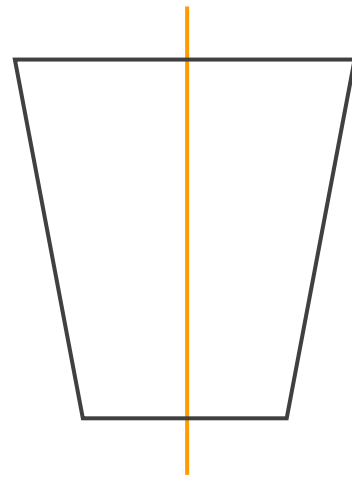
(20点)



答え： ×

②

(20点)



答え： ○

