




# 対称な図形2

16

目指せ80点!

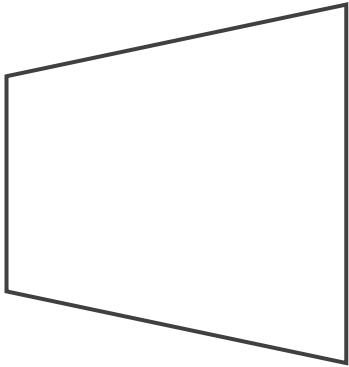


## 線対称の軸

名まえ \_\_\_\_\_

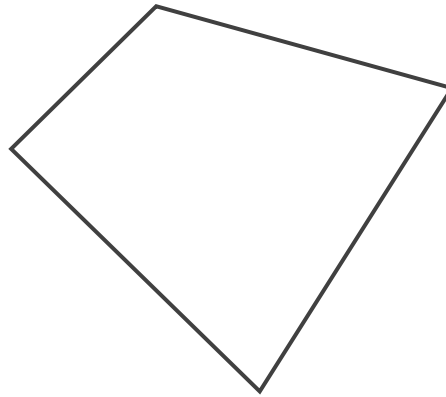
・次の図で、線対称な図には○、線対称な図形ではないものには×と  
 答えなさい。また、○をつけた図形には対称の軸をすべてかき入れなさい。  
 (各20点)

①




答え： \_\_\_\_\_

②




答え： \_\_\_\_\_

③



答え： \_\_\_\_\_

④



答え： \_\_\_\_\_

⑤



答え： \_\_\_\_\_






# 対称な図形2

16

目指せ80点!



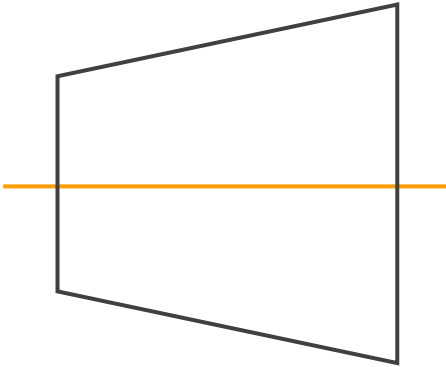
## 線対称の軸

名まえ \_\_\_\_\_

・次の図で、線対称な図には○、線対称な図形ではないものには×と答えなさい。また、○をつけた図形には対称の軸をすべてかき入れなさい。

(各20点)

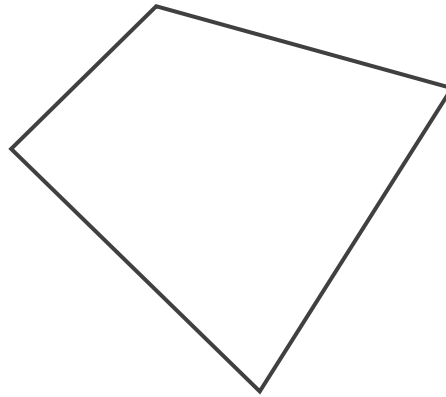
①



答え：




②



答え：




③



答え：



④



答え：



⑤



答え：

