



並べ方と
組み合わせ方 6

- 2つ選ぶ組み合わせ
(樹形図)

16

めざせ100点!



名まえ

・ さ, し, す, せ, その5つのひらがなから、2つ選びます。次の問いに答えましょう。

- ① どんな組み合わせがありますか。図にまとめましょう。(70点)

- ② ひらがなの組み合わせは全部で何通りありますか。(30点)

答え ()



並べ方と 組み合わせ方 6

● 2つ選ぶ組み合わせ
(樹形図)

16


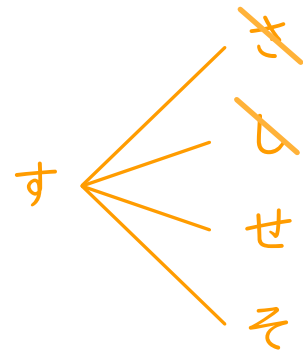
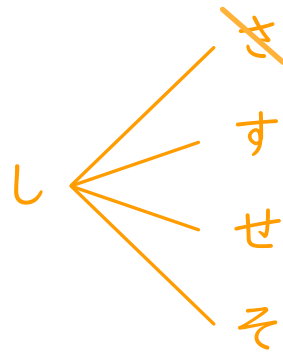
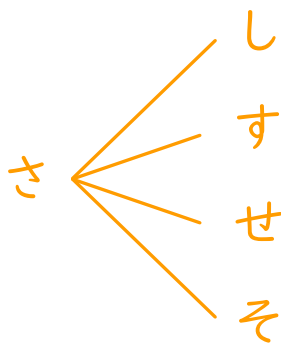
めざせ100点!



名まえ

・ さ, し, す, せ, その5つのひらがなから、2つ選びます。次の問いに答えましょう。

① どんな組み合わせがありますか。図にまとめましょう。(70点)



② ひらがなの組み合わせは全部で何通りありますか。(30点)

答え (10通り)