

拡大図と縮図 6



ある頂点を中心とした縮図の作図

日にち： 月 日

名まえ _____

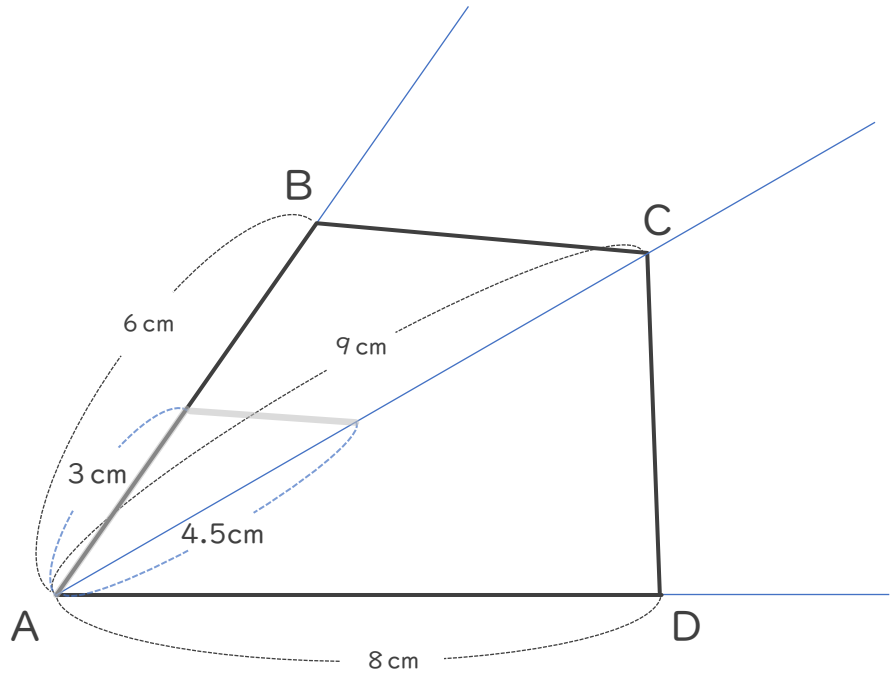
・ 次の四角形ABCDの $\frac{1}{2}$ の縮図を頂点Aを中心にしてかきましょう。
(うすい線はなぞりましょう。)

①

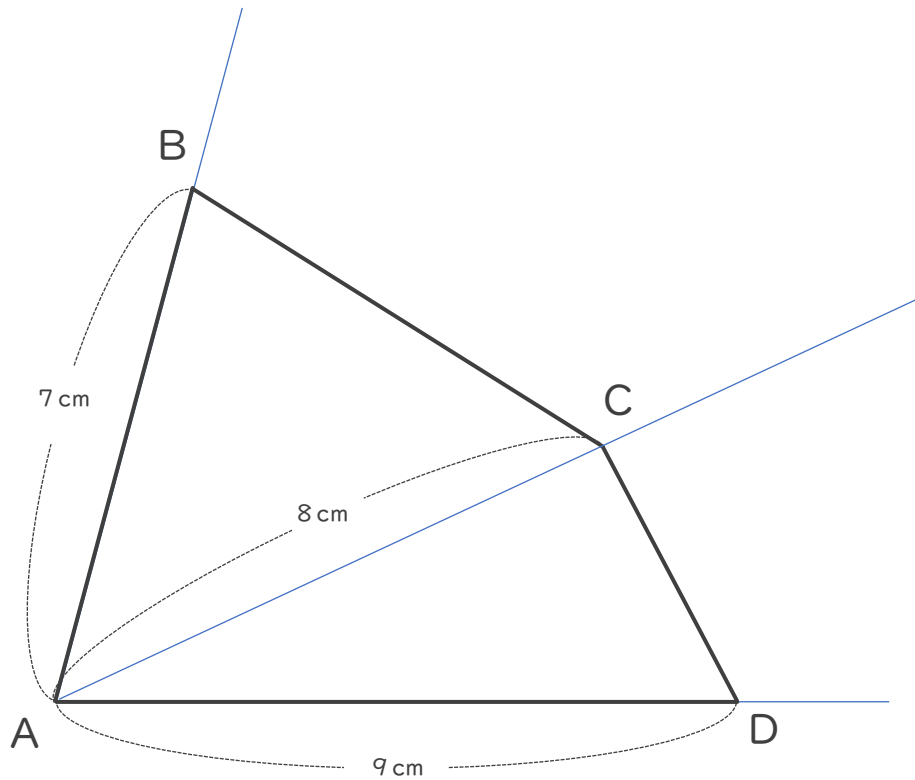
$$6 \text{ cm} \times \frac{1}{2} = 3 \text{ cm}$$

$$9 \text{ cm} \times \frac{1}{2} = 4.5 \text{ cm}$$

$$8 \text{ cm} \times \frac{1}{2} = 4 \text{ cm}$$




②



② 確認





拡大図と縮図 6

2

ある頂点を中心とした縮図の作図

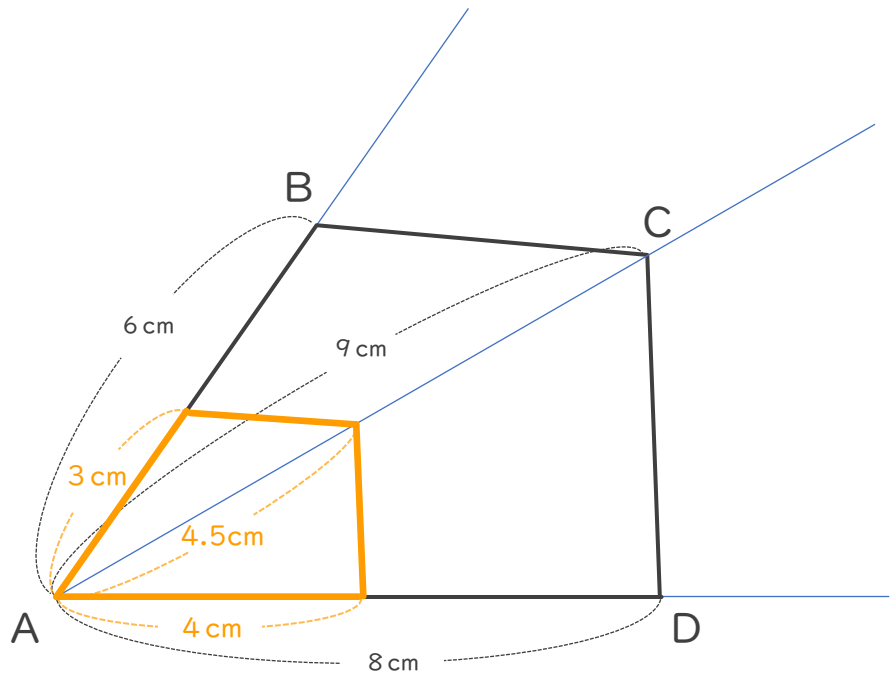
日にち： 月 日

名まえ _____

・次の四角形ABCDの $\frac{1}{2}$ の縮図を頂点Aを中心にしてかきましょう。
(うすい線はなぞりましょう。)

①

$6\text{ cm} \times \frac{1}{2} = 3\text{ cm}$
 $9\text{ cm} \times \frac{1}{2} = 4.5\text{ cm}$
 $8\text{ cm} \times \frac{1}{2} = 4\text{ cm}$



②

$7\text{ cm} \times \frac{1}{2} = 3.5\text{ cm}$
 $8\text{ cm} \times \frac{1}{2} = 4\text{ cm}$
 $9\text{ cm} \times \frac{1}{2} = 4.5\text{ cm}$

