



並べ方と 組み合わせ方 7

● お金を組み合わせて
できる金額



日にち： 月 日

名まえ _____

下の4種類のお金が1枚ずつあります。次の問いに答えましょう。

(うすい字はなぞりましょう。)



500円



100円

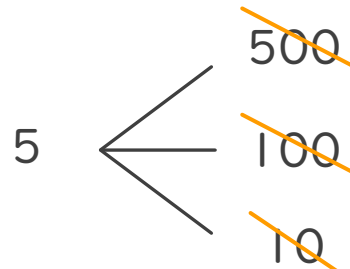
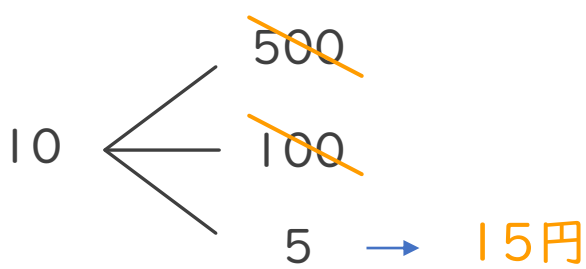
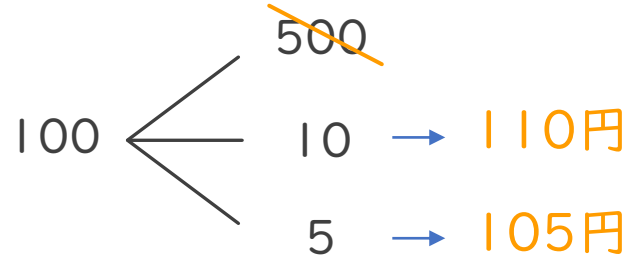
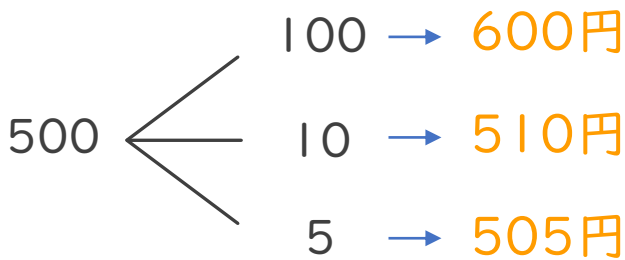


10円



5円

① 4枚のうち2枚を組み合わせてできる金額を全部かきましょう。



答え

600円、510円、505円、110円、105円、15円

② ①の金額のうち、500円以上の金額は何通りありますか。

答え (3通り)

