



# データの調べ方 7

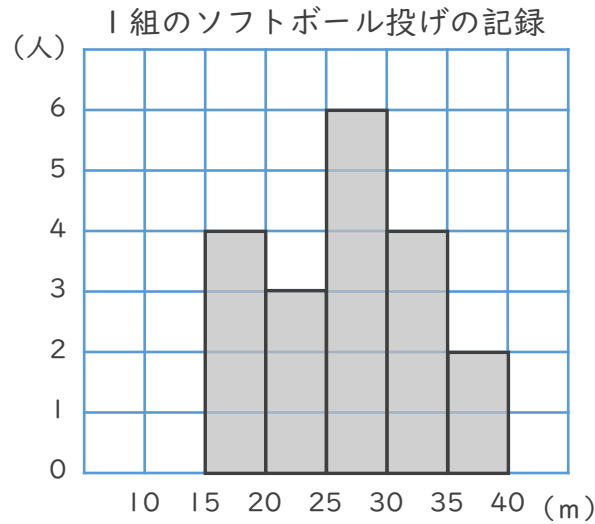
## ◎ ヒストグラムの読み取り



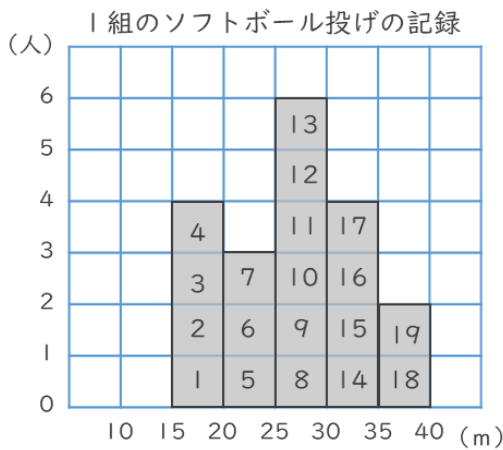
日にち： 月 日

名まえ \_\_\_\_\_

下のヒストグラムを見て、次の問いに答えましょう。



① 1組の人数は何人ですか。

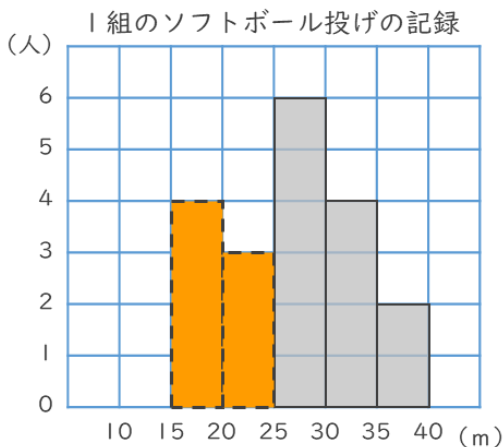


1つのマスが1人だから  
マスの数を数えればいいね！



答え ( )

② 記録が25m未満の人は何人ですか。



15m以上20m未満と  
20m以上25m未満の階級  
を合わせると…



答え ( )





# データの調べ方 7

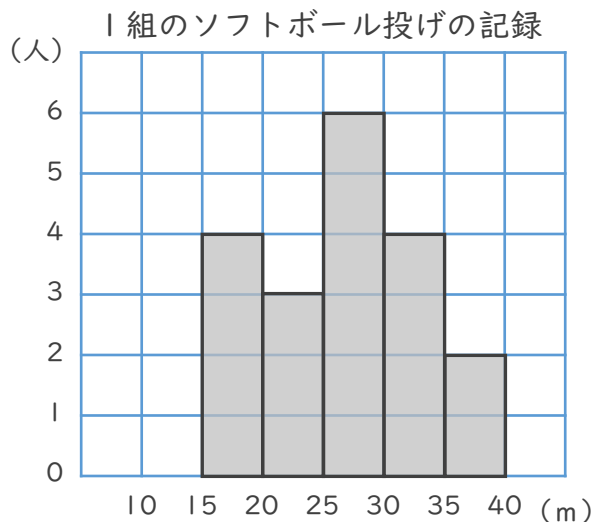
## ◎ ヒストグラムの読み取り



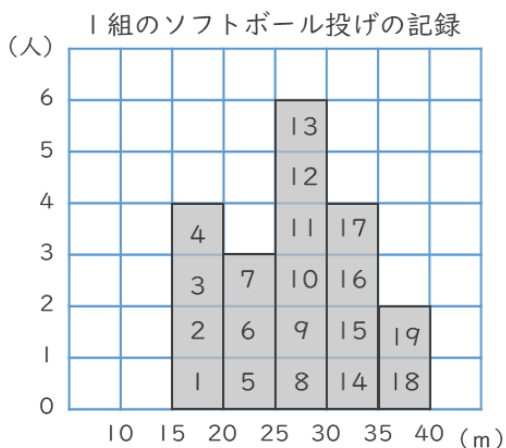
日にち：            月            日

名まえ \_\_\_\_\_

下のヒストグラムを見て、次の問いに答えましょう。



① 1組の人数は何人ですか。

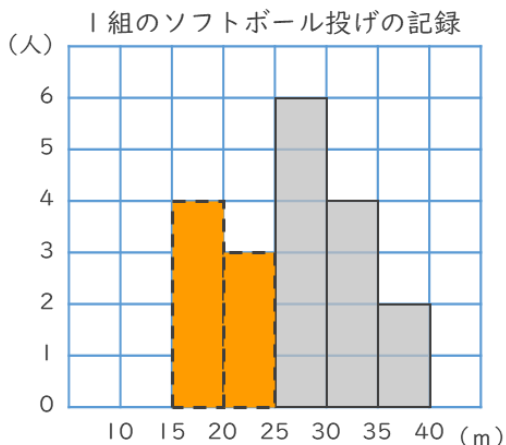


1つのマスが1人だから  
マス数を数えればいいね!



答え (    19人    )

② 記録が25m未満の人は何人ですか。



15m以上20m未満と  
20m以上25m未満の階級  
を合わせると...



答え (    7人    )

