



分数のわり算 21

● 分数÷整数の文章問題

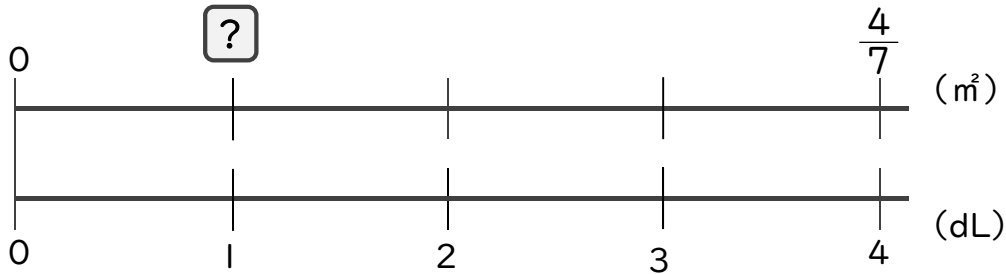


日にち： 月 日

名まえ _____

・次の問いに答えましょう。(うすい字は、しっかりなぞりましょう)

1 4dLで、板を $\frac{4}{7}$ ㎡ぬれるペンキがあります。このペンキ1dLでは板を何㎡ぬれますか。



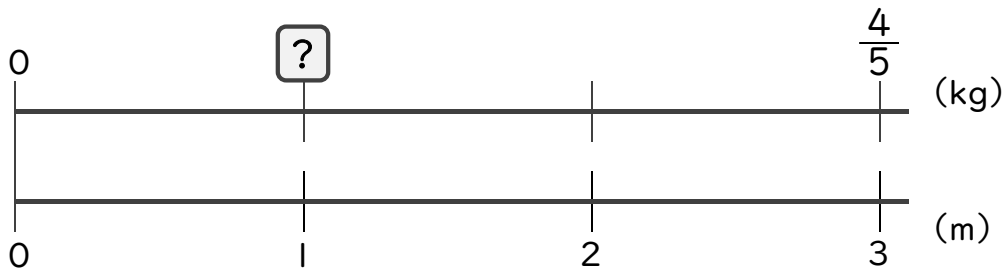
$$\square = \frac{4}{7} \div 4$$

$$= \frac{4}{7 \times 4}$$

=

答え： _____ m^2

2 3mの重さが $\frac{4}{5}$ kgのホースがあります。このホース1mの重さは何kgですか。



$$\square =$$

答え： _____



分数のわり算 21

● 分数÷整数の文章問題

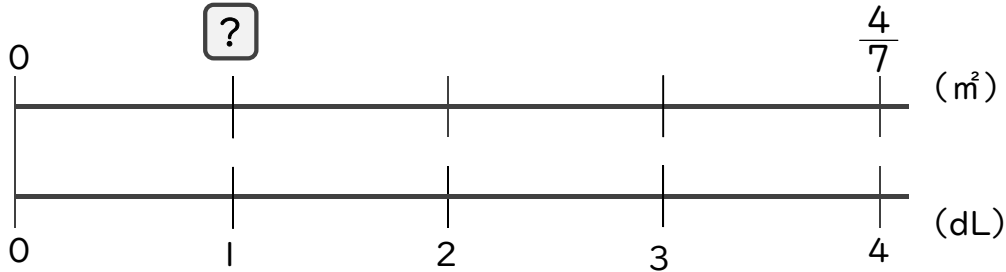


日にち： 月 日

名まえ _____

・次の問いに答えましょう。(うすい字は、しっかりなぞりましょう)

1 4dLで、板を $\frac{4}{7}$ m²ぬれるペンキがあります。このペンキ1dLでは板を何m²ぬれますか。



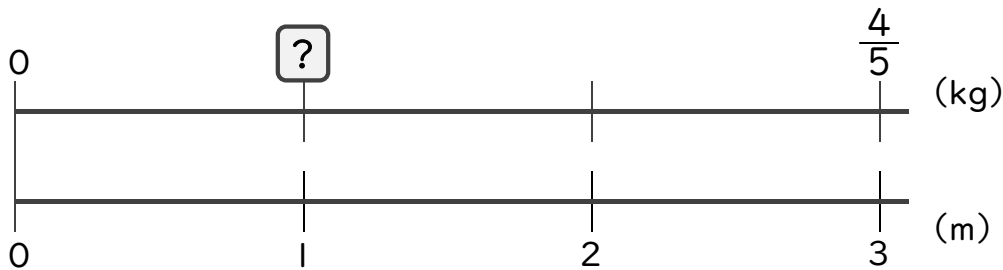
$$\square = \frac{4}{7} \div 4$$

$$= \frac{\cancel{4}^1}{7 \times \cancel{4}_1}$$

$$= \frac{1}{7}$$

答え： $\frac{1}{7}$ m²

2 3mの重さが $\frac{4}{5}$ kgのホースがあります。このホース1mの重さは何kgですか。



$$\square = \frac{4}{5} \div 3$$

$$= \frac{4}{5 \times 3}$$

$$= \frac{4}{15}$$

答え： $\frac{4}{15}$ kg