



対称な図形3

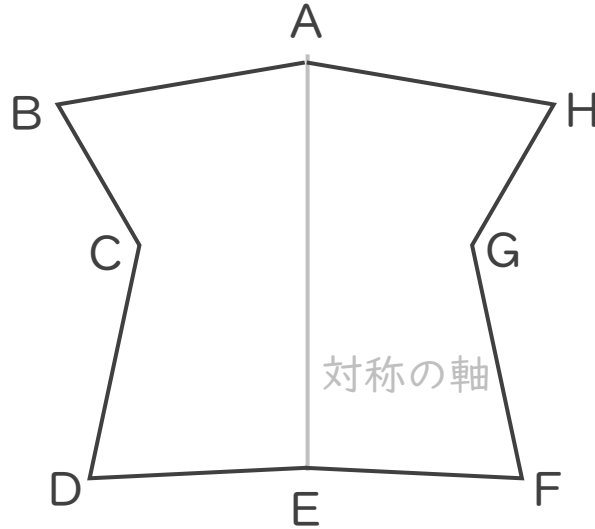
◎ 線対称な図形の
対応する点



日にち： 月 日

名まえ _____

・ 次の図は線対称です。(うすい字はなぞりましょう。)



① 点Cに対応する点はどれでしょうか。

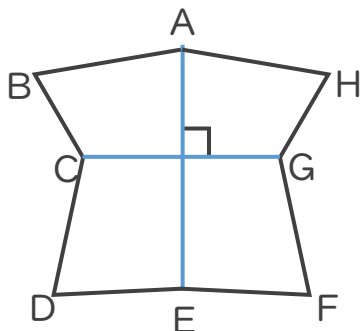
折って重なる点を探そう！

答え： _____

② 辺CDに対応する辺はどれでしょうか。

答え： _____

③ 対称の軸と直線CGはどのように交わるでしょうか。



直線CGをかこう！

答え： _____



対称な図形3

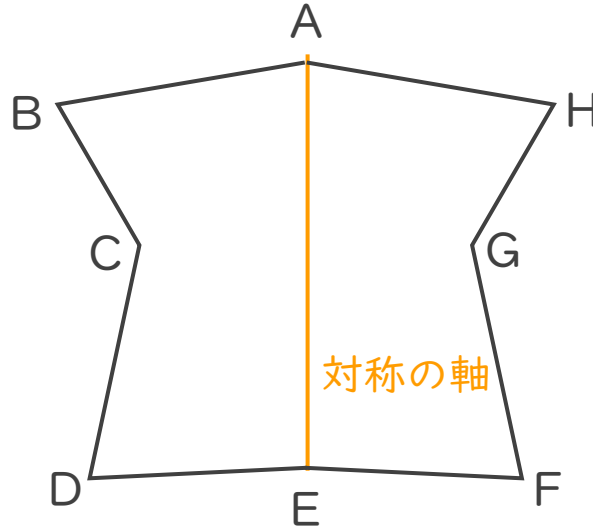
◎ 線対称な図形の
対応する点



日にち： 月 日

名まえ _____

・ 次の図は線対称です。(うすい字はなぞりましょう。)



① 点Cに対応する点はどれでしょうか。

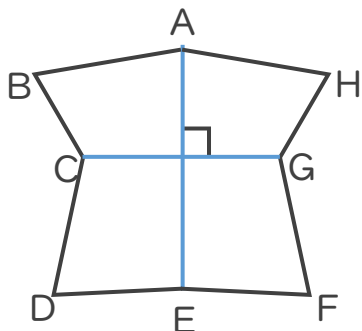
折って重なる点を探そう！

答え： 点G

② 辺CDに対応する辺はどれでしょうか。

答え： 辺GF

③ 対称の軸と直線CGはどのように交わるでしょうか。



直線CGをかこう！

答え： 垂直