





並べ方と  
組み合わせ方 4

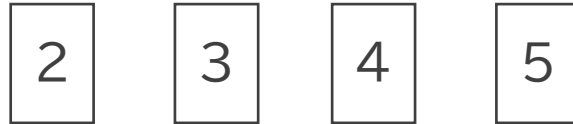
● 4つの数字から  
2けたの整数をつくる



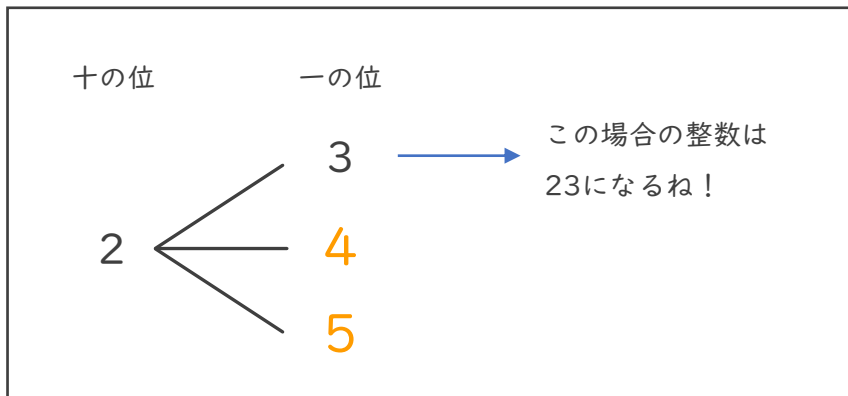
日にち：            月            日

名まえ \_\_\_\_\_

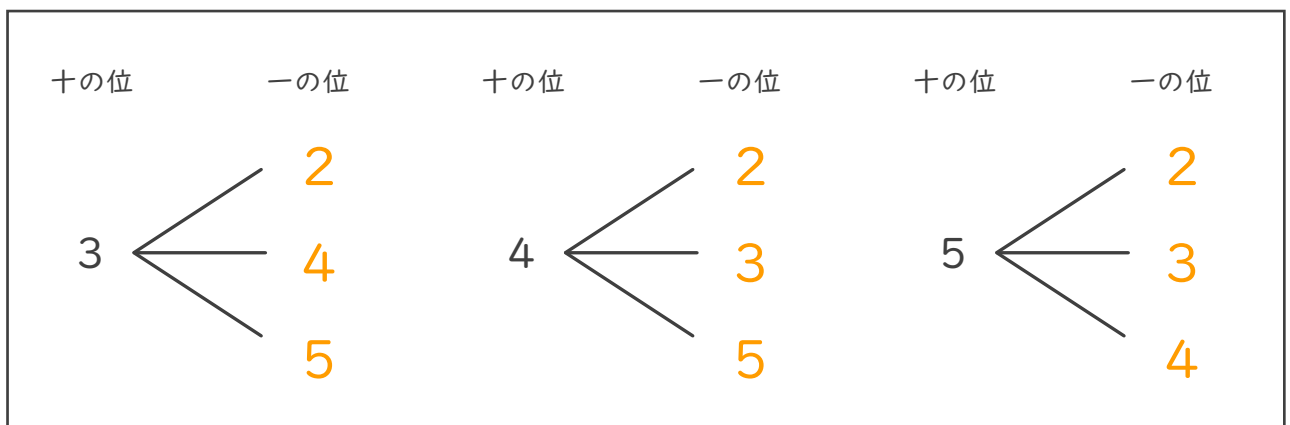
- 下の4枚のカードのうちの2枚を選んで、2けたの整数をつくりま  
す。次の問いに答えましょう。（うすい字はなぞりましょう。）



- ① 十の位が2になる場合を図に表しましょう。



- ② 十の位が3, 4, 5になる場合を図に表しましょう。



- ③ 2けたの整数は全部で何通りできますか。

答え (            12通り            )