



分数のわり算 21

● 分数÷整数の文章問題

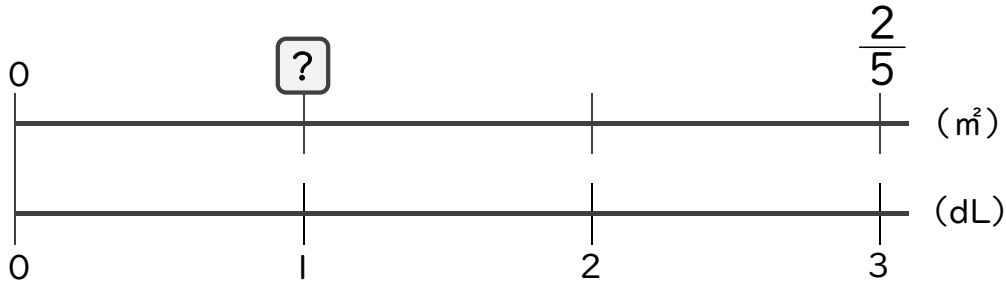


日にち： 月 日

名まえ _____

・次の問いに答えましょう。(うすい字は、しっかりなぞりましょう)

1 3dLで、板を $\frac{2}{5}$ m²ぬれるペンキがあります。このペンキ1dLでは板を何m²ぬれますか。

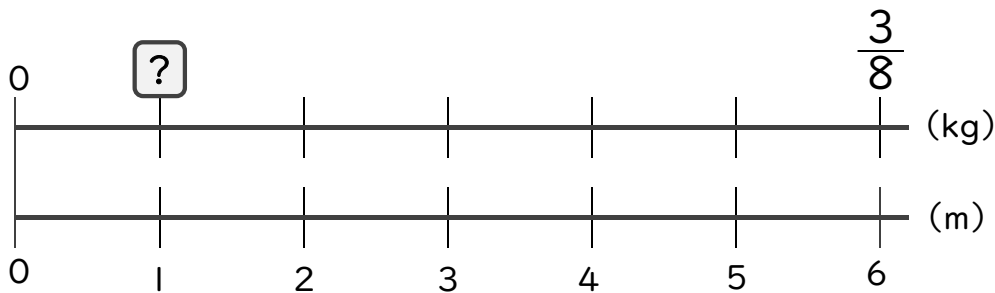


$$\square = \frac{2}{5} \div 3$$

$$=$$

答え： _____

2 6mの重さが $\frac{3}{8}$ kgのホースがあります。このホース1mの重さは何kgですか。



$$\square =$$

答え： _____



分数のわり算 21

● 分数÷整数の文章問題

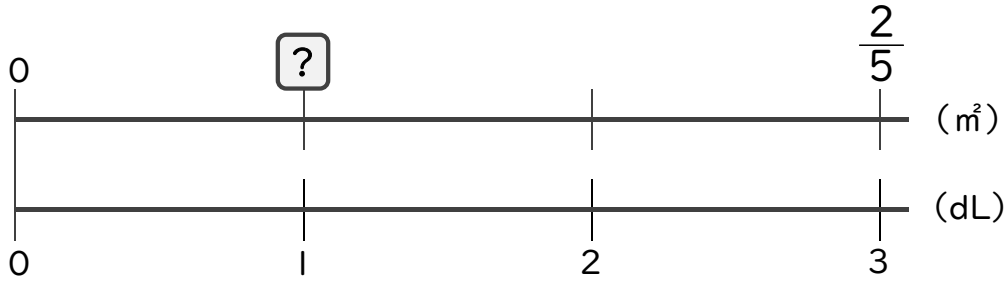


日にち： 月 日

名まえ _____

・次の問いに答えましょう。(うすい字は、しっかりなぞりましょう)

1 3dLで、板を $\frac{2}{5}$ m²ぬれるペンキがあります。このペンキ1dLでは板を何m²ぬれますか。



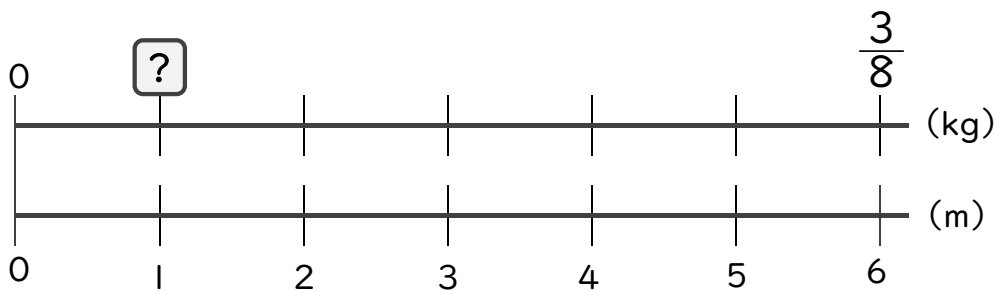
$$\square = \frac{2}{5} \div 3$$

$$= \frac{2}{5 \times 3}$$

$$= \frac{2}{15}$$

答え： $\frac{2}{15}$ m²

2 6mの重さが $\frac{3}{8}$ kgのホースがあります。このホース1mの重さは何kgですか。



$$\square = \frac{3}{8} \div 6$$

$$= \frac{\overset{1}{\cancel{3}}}{8 \times \underset{2}{\cancel{6}}}$$

$$= \frac{1}{16}$$

答え： $\frac{1}{16}$ kg