



分数のかけ算23

● 分数同士の積 (文章問題)

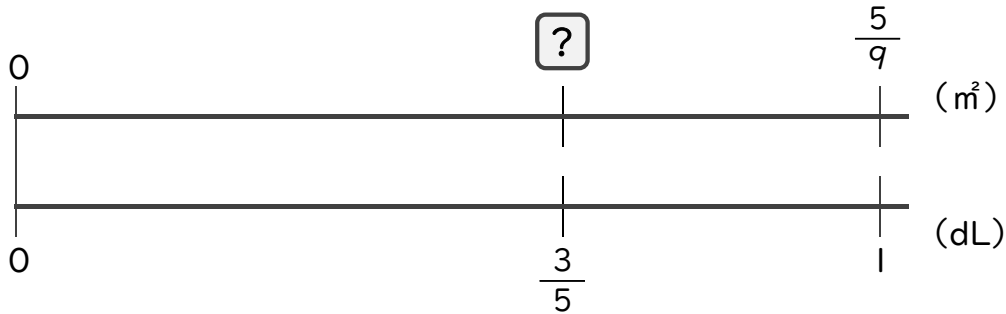


日にち： 月 日

名まえ _____

・ 次の問いに答えましょう。(うすい字は、しっかりなぞりましょう)

1 1dLで、板を $\frac{5}{9}$ m²ぬれるペンキがあります。このペンキ $\frac{3}{5}$ dLでは、板を何m²ぬれますか。

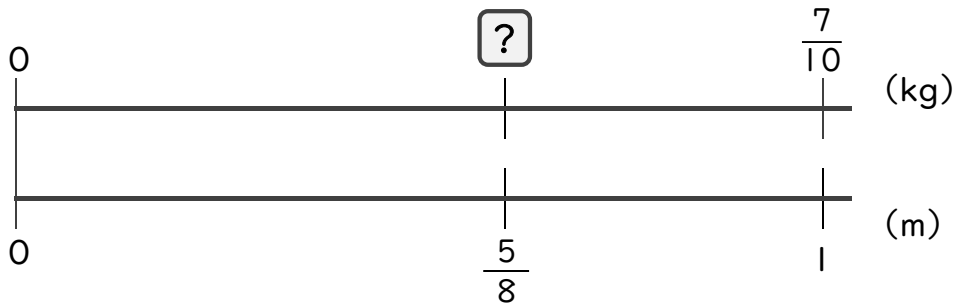


$$\square = \frac{5}{9} \times \frac{3}{5}$$

$$=$$

答え： _____

2 1mの重さが $\frac{7}{10}$ kgのホースがあります。このホース $\frac{5}{8}$ mの重さは何kgですか。



$$\square = \frac{7}{10} \times \frac{5}{8}$$

$$=$$

答え： _____



分数のかけ算23

● 分数同士の積 (文章問題)

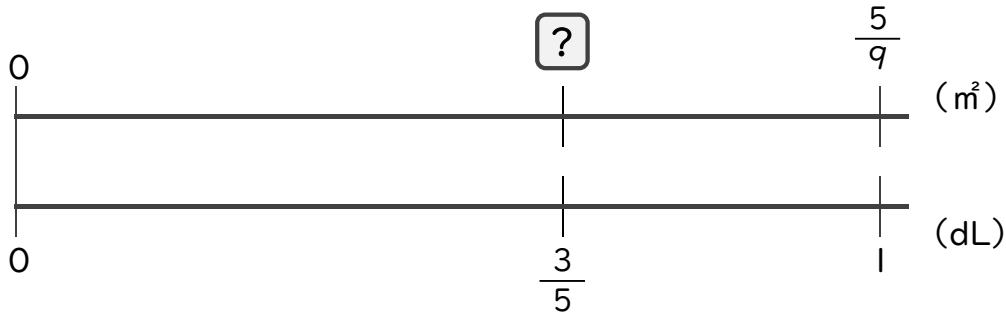


日にち： 月 日

名まえ _____

・ 次の問いに答えましょう。(うすい字は、しっかりなぞりましょう)

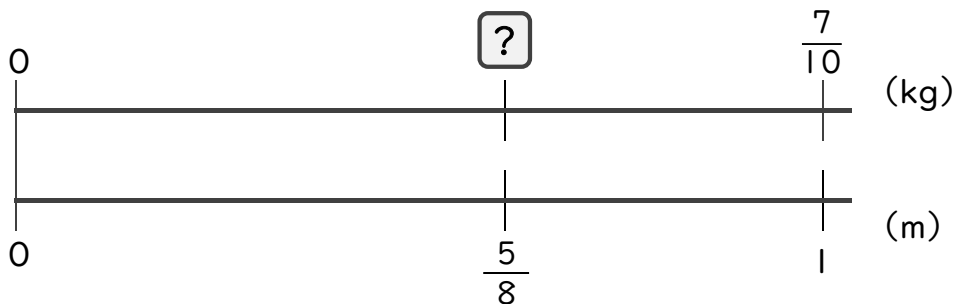
1 1dLで、板を $\frac{5}{9}$ m²ぬれるペンキがあります。このペンキ $\frac{3}{5}$ dLでは、板を何m²ぬれますか。



$$\begin{aligned} \square &= \frac{5}{9} \times \frac{3}{5} \\ &= \frac{1 \times 1}{3 \times 1} \\ &= \frac{1}{3} \end{aligned}$$

答え： $\frac{1}{3}$ m²

2 1mの重さが $\frac{7}{10}$ kgのホースがあります。このホース $\frac{5}{8}$ mの重さは何kgですか。



$$\begin{aligned} \square &= \frac{7}{10} \times \frac{5}{8} \\ &= \frac{7 \times 1}{2 \times 8} \\ &= \frac{7}{16} \end{aligned}$$

答え： $\frac{7}{16}$ kg