

拡大図と縮図

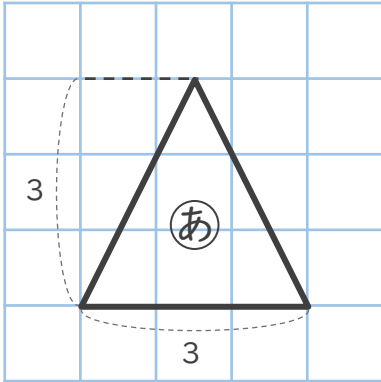


● 拡大図と縮図は
どれですか

日にち： 月 日

名まえ _____

・ (あ) の図の ^{かくだいず} 拡大図はどれですか。また、(あ) の図の ^{しゅくず} 縮図はどれですか。

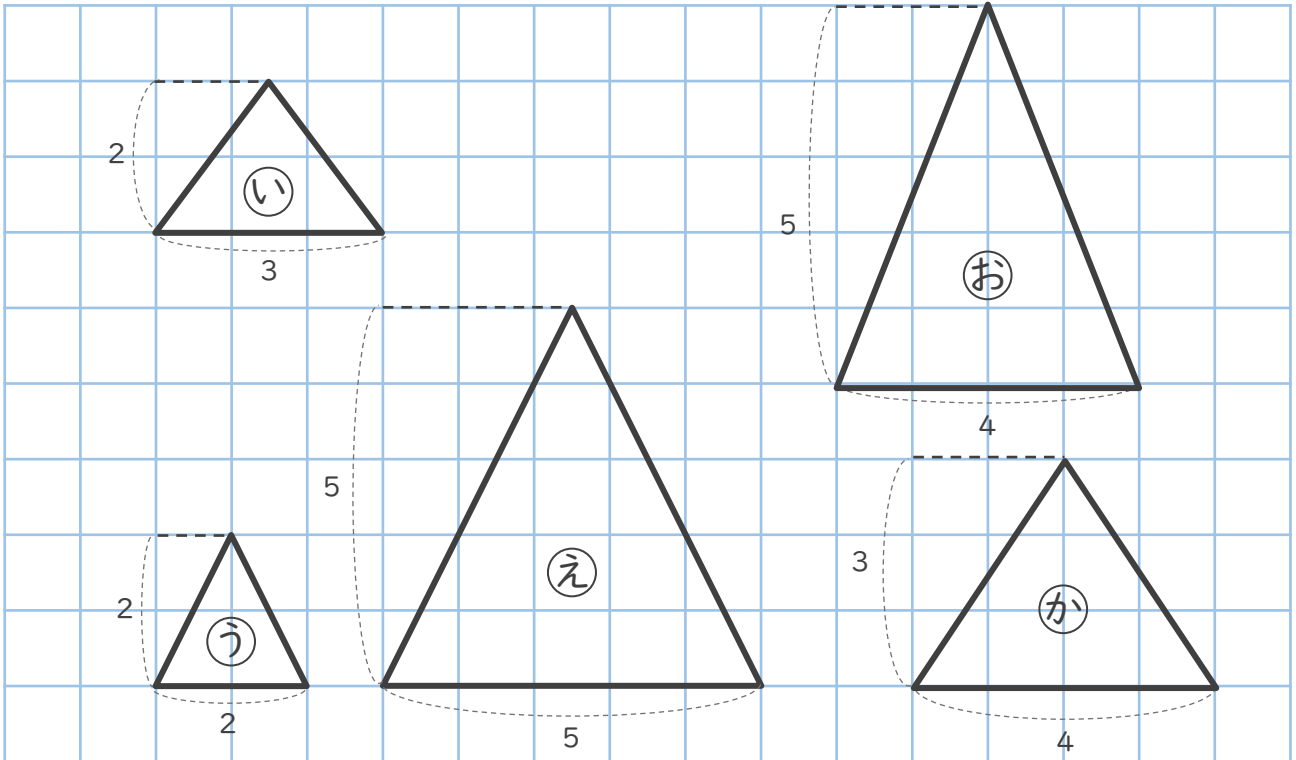
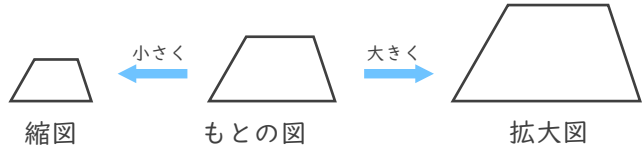


^{かくだいず}

拡大図：もとの図を、形を変えずに大きくした図

^{しゅくず}

縮図：もとの図を、形を変えずに小さくした図



たて：よこ = 1 : 1

になっている図形をさがそう！



拡大図： ()

縮図： ()



拡大図と縮図

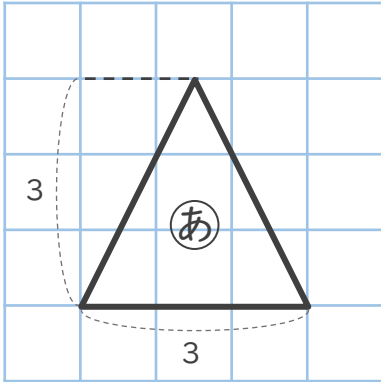


● 拡大図と縮図は
どれですか

日にち： 月 日

名まえ _____

・ (あ) の図の ^{かくだいず} 拡大図はどれですか。また、(あ) の図の ^{しゅくず} 縮図はどれですか。

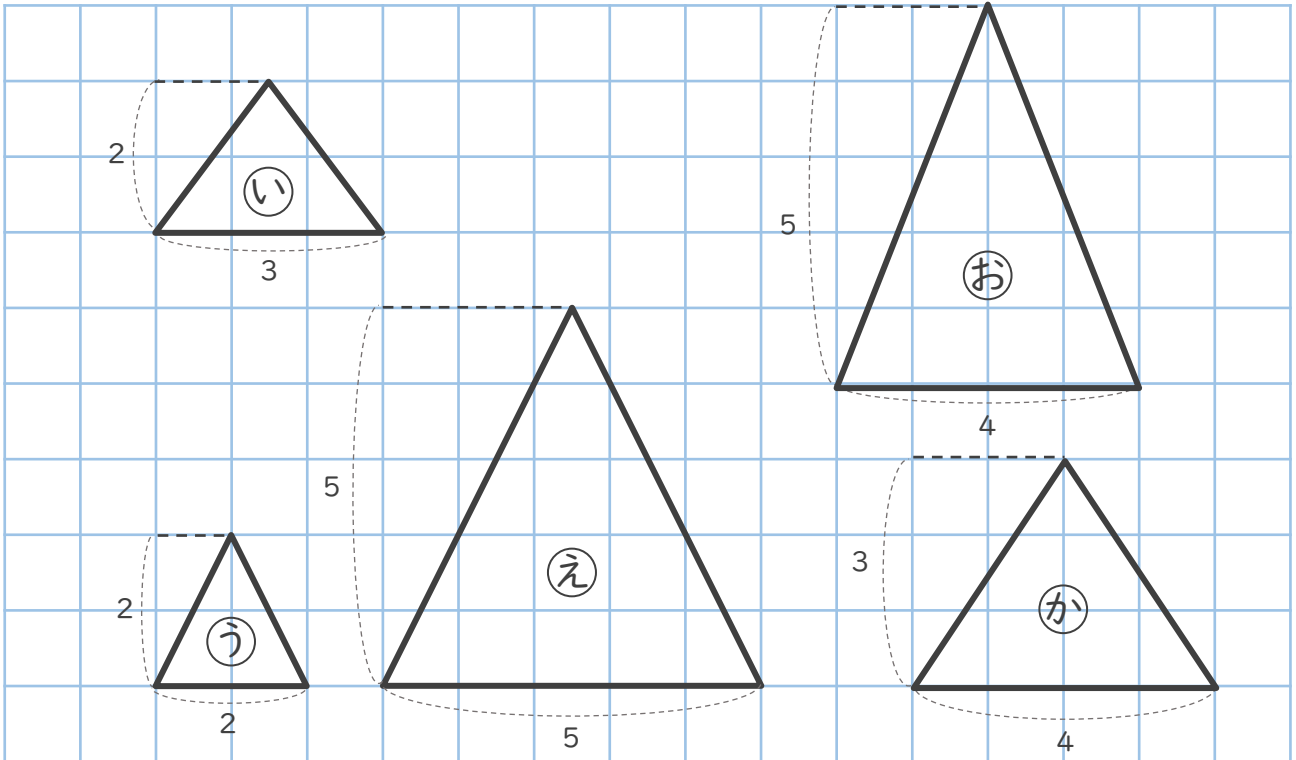
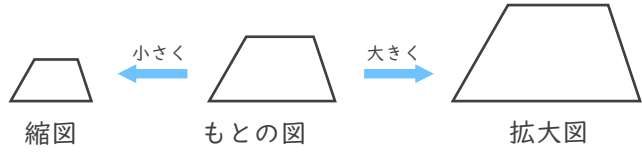


^{かくだいず}

拡大図：もとの図を、形を変えずに大きくした図

^{しゅくず}

縮図：もとの図を、形を変えずに小さくした図



たて：よこ = 1 : 1
になっている図形をさがそう！



拡大図： (**え**)

縮図： (**う**)

