



対称な図形2



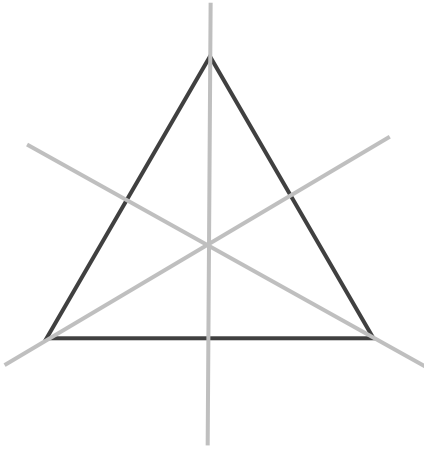
線対称の軸

日にち： 月 日

名まえ _____

・次の図で、線対称な図には○、線対称な図形ではないものには×と答えなさい。また、○をつけた図形には対称の軸をすべてかき入れなさい。(うすい字はなぞりましょう。)

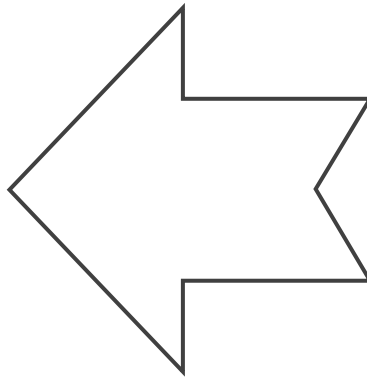
①



答え：



②




答え：

③



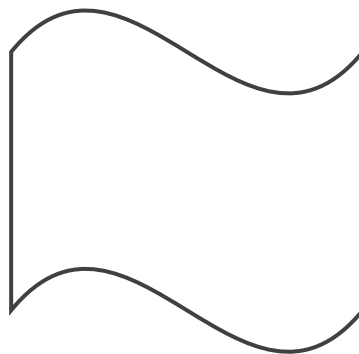
答え：

④



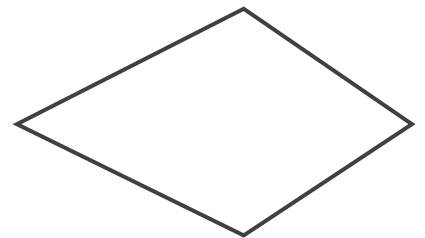
答え：

⑤



答え：

⑥



答え：





対称な図形2

3

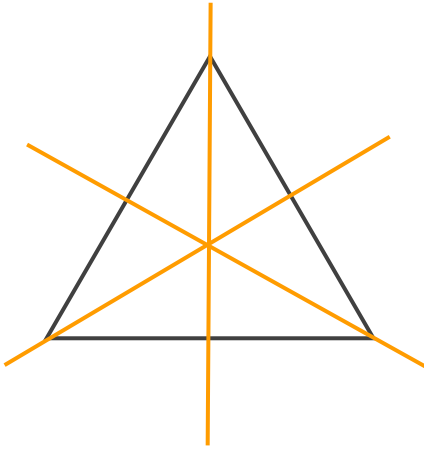
線対称の軸

日にち： 月 日

名まえ _____

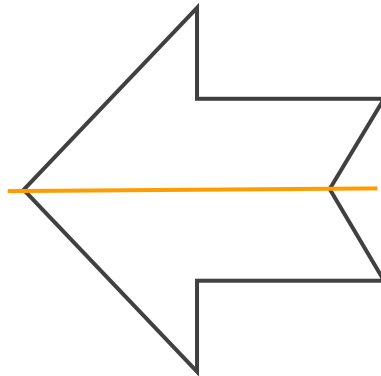
・次の図で、線対称な図には○、線対称な図形ではないものには×と答えなさい。また、○をつけた図形には対称の軸をすべてかき入れなさい。(うすい字はなぞりましょう。)

①



答え： ○

②




答え： ○

③



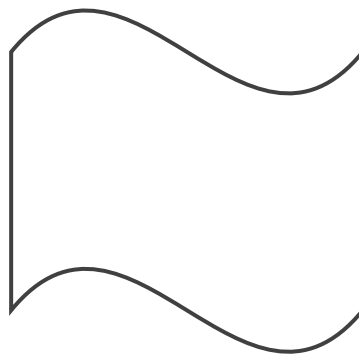
答え： ×

④



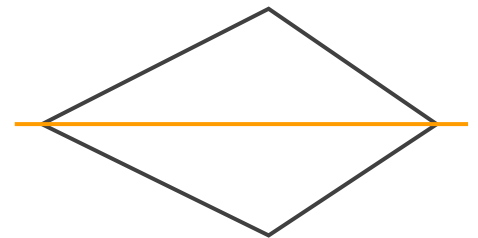
答え： ○

⑤



答え： ×

⑥



答え： ○

