

拡大図と縮図 6

ある頂点を中心とした縮図の作図



日にち： 月 日

名まえ _____

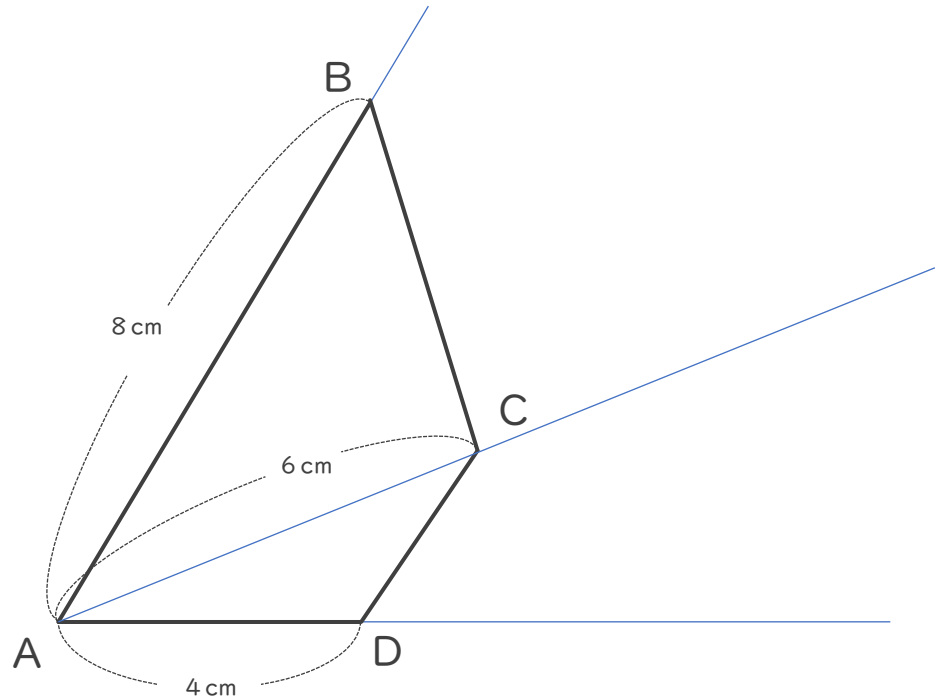
・ 次の四角形ABCDの $\frac{1}{2}$ の縮図を頂点Aを中心にしてかきましょう。

①

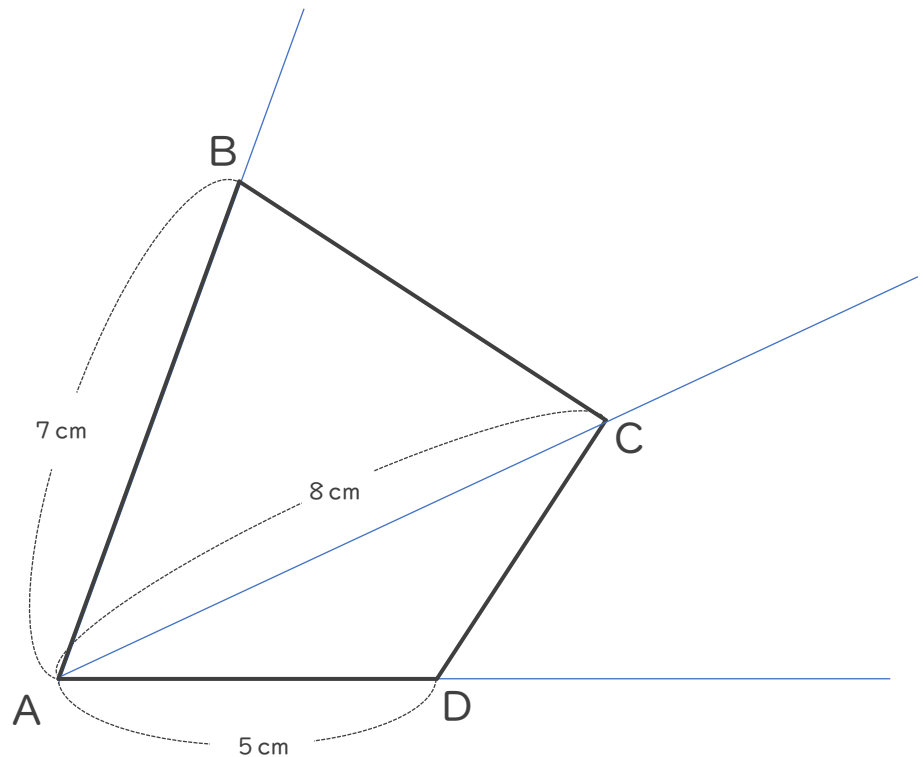
$$8 \text{ cm} \times \frac{1}{2} = 4 \text{ cm}$$


$$6 \text{ cm} \times \frac{1}{2} = 3 \text{ cm}$$

$$4 \text{ cm} \times \frac{1}{2} = 2 \text{ cm}$$



②





拡大図と縮図 6

ある頂点を中心とした縮図の作図



日にち： 月 日

名まえ _____

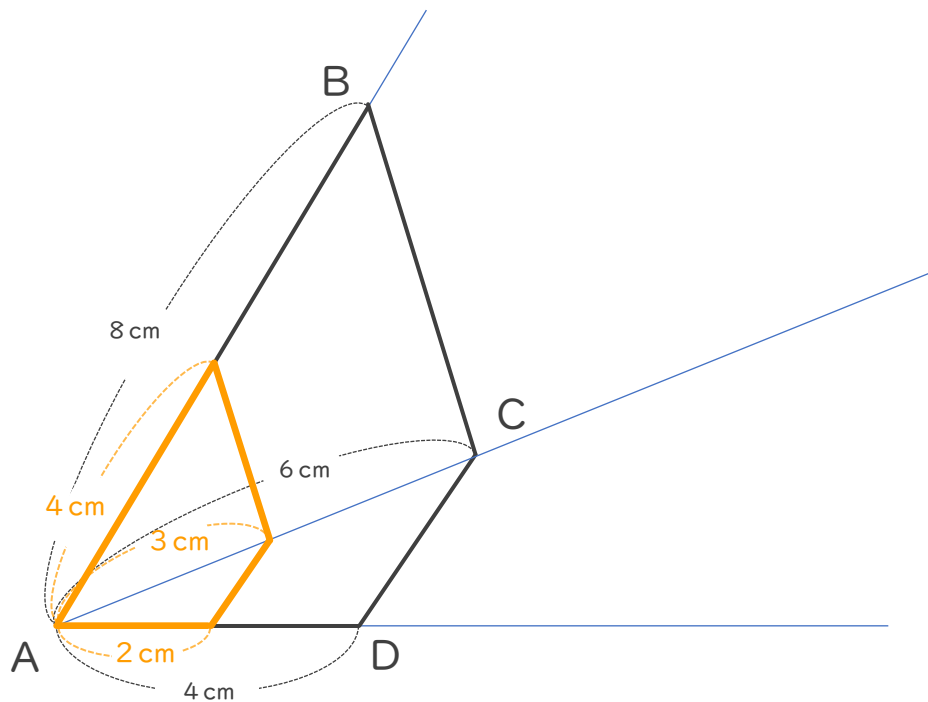
・ 次の四角形ABCDの $\frac{1}{2}$ の縮図を頂点Aを中心にしてかきましょう。
(うすい線はなぞりましょう。)

①

$$8 \text{ cm} \times \frac{1}{2} = 4 \text{ cm}$$

$$6 \text{ cm} \times \frac{1}{2} = 3 \text{ cm}$$

$$4 \text{ cm} \times \frac{1}{2} = 2 \text{ cm}$$



②

$$7 \text{ cm} \times \frac{1}{2} = 3.5 \text{ cm}$$

$$8 \text{ cm} \times \frac{1}{2} = 4 \text{ cm}$$

$$5 \text{ cm} \times \frac{1}{2} = 2.5 \text{ cm}$$

