





# 並べ方と 組み合わせ方 7

● お金を組み合わせて  
できる金額

4

日にち：          月          日

名まえ \_\_\_\_\_

下の4種類のお金が1枚ずつあります。次の問いに答えましょう。

(うすい字はなぞりましょう。)



500円



100円

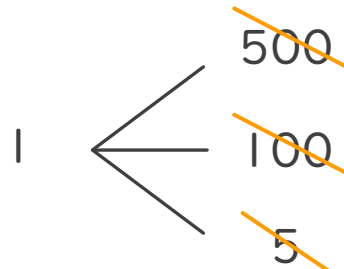
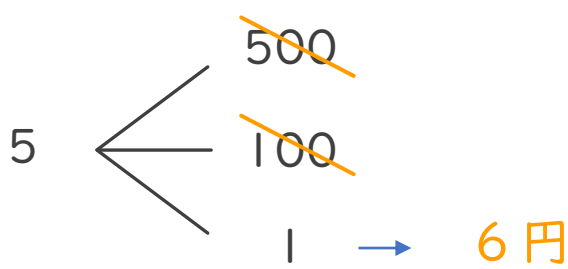
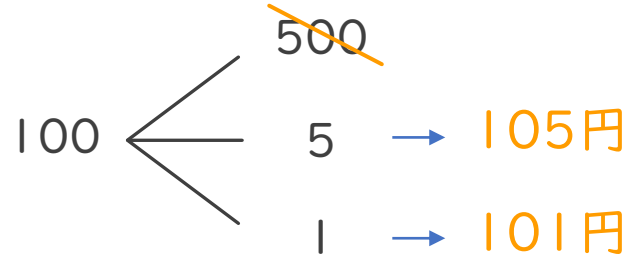
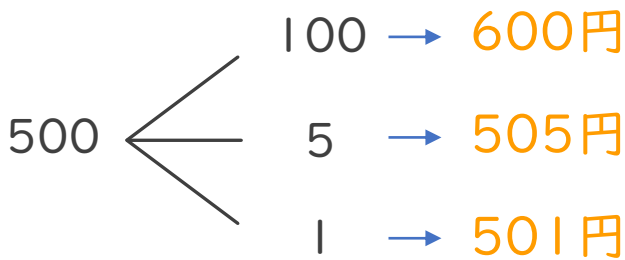


5円



1円

① 4枚のうち2枚を組み合わせてできる金額を全部かきましょう。



答え

600円、505円、501円、105円、101円、6円

② ①の金額のうち、500円以上の金額は何通りありますか。

答え ( 3通り )

