



並べ方と 組み合わせ方 7

● お金を組み合わせて
できる金額

4

日にち： 月 日

名まえ _____

- ・ 下の4種類のお金が1枚ずつあります。次の問いに答えましょう。
(うすい字はなぞりましょう。)



500円



100円

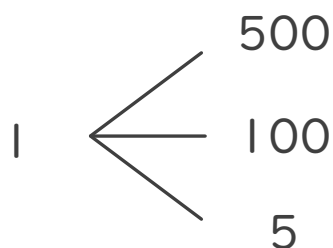
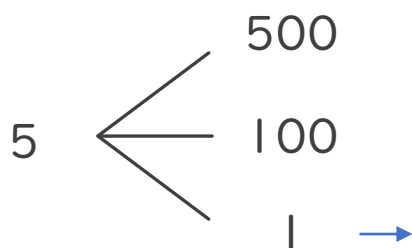
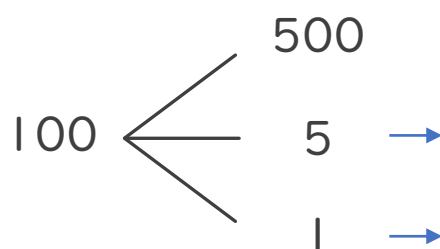
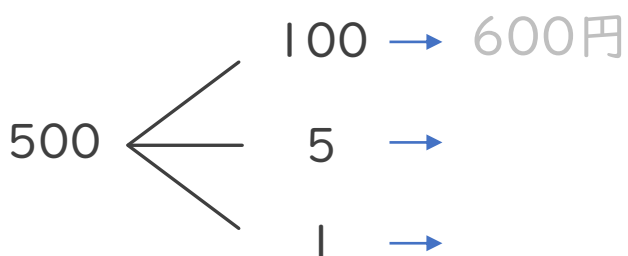


5円



1円

- ① 4枚のうち2枚を組み合わせてできる金額を全部かきましょう。



答え

- ② ①の金額のうち、500円以上の金額は何通りありますか。

答え ()



並べ方と 組み合わせ方 7

● お金を組み合わせて
できる金額

4

日にち： 月 日

名まえ _____

・下の4種類のお金が1枚ずつあります。次の問いに答えましょう。
(うすい字はなぞりましょう。)



500円



100円

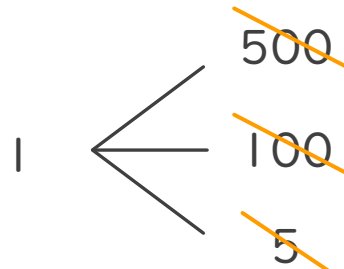
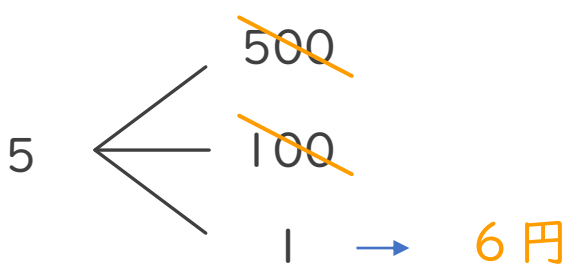
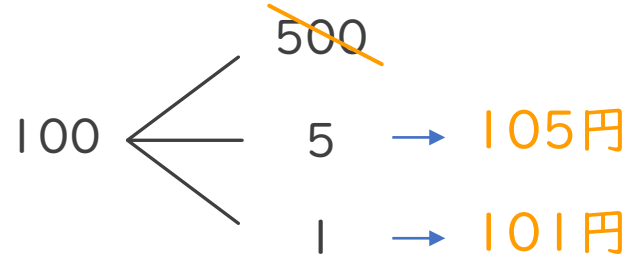
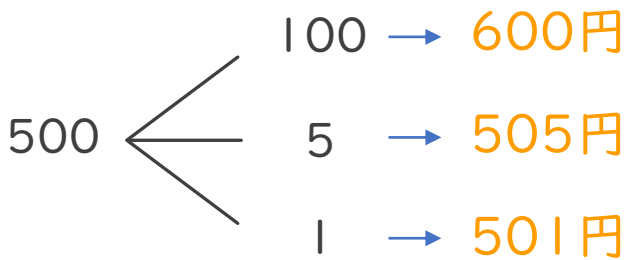


5円



1円

① 4枚のうち2枚を組み合わせてできる金額を全部かきましょう。



答え

600円、505円、501円、105円、101円、6円

② ①の金額のうち、500円以上の金額は何通りありますか。

答え (3通り)

