



分数のかけ算22

● 分数と整数の積 (文章問題)

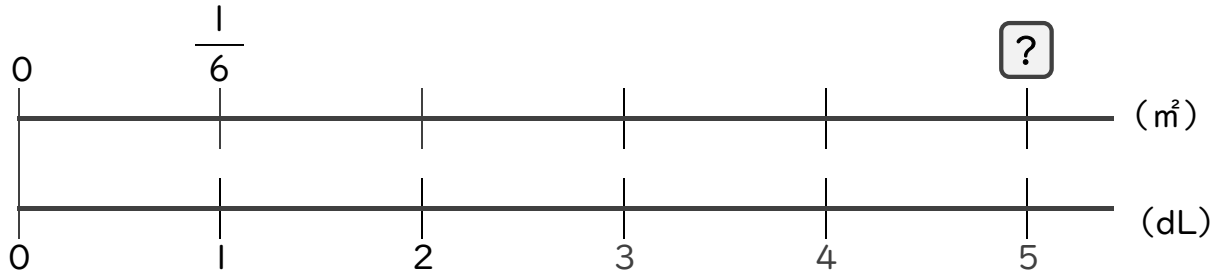
4

日にち： 月 日

名まえ _____

・次の問いに答えましょう。(うすい字は、しっかりなぞりましょう)

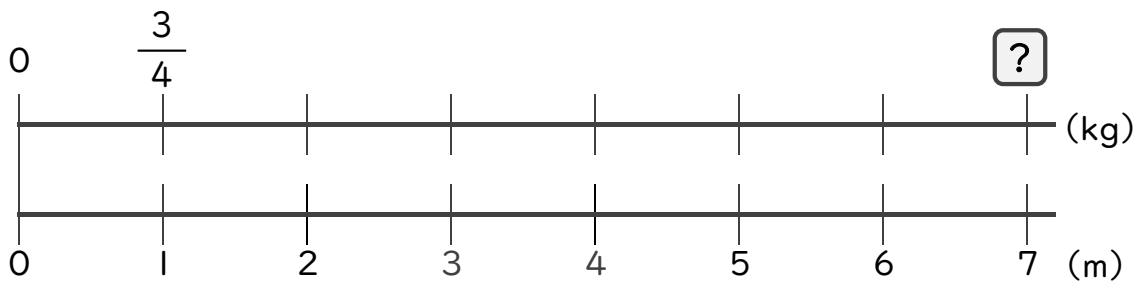
1 1dLで、板を $\frac{1}{6}$ m²ぬれるペンキがあります。このペンキ5dLでは、板を何m²ぬれますか。



$$\square = \frac{1}{6} \times 5$$
$$=$$

答え： _____ m²

2 1mの重さが $\frac{3}{4}$ kgのホースがあります。このホース7mの重さは何kgですか。



$$\square =$$

答え： _____



分数のかけ算22

分数と整数の積 (文章問題)

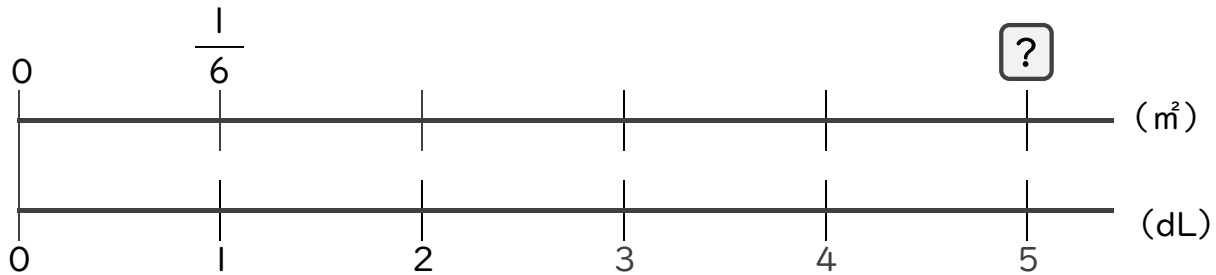
4

日にち： 月 日

名まえ _____

・次の問いに答えましょう。(うすい字は、しっかりなぞりましょう)

1 1dLで、板を $\frac{1}{6}$ m²ぬれるペンキがあります。このペンキ5dLでは、板を何m²ぬれますか。



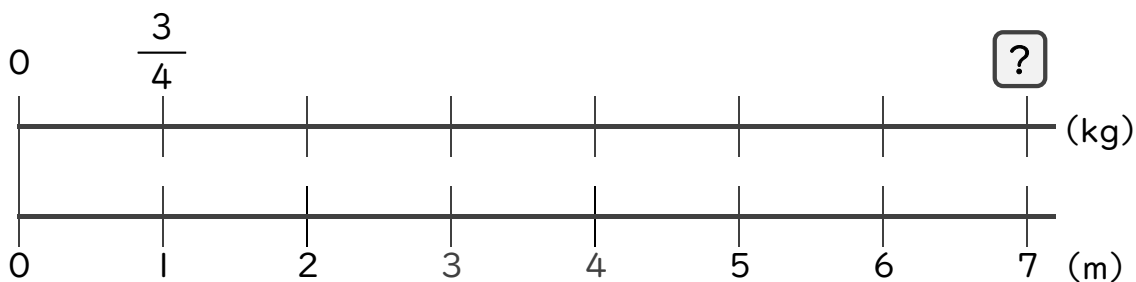
$$\square = \frac{1}{6} \times 5$$

$$= \frac{1 \times 5}{6}$$

$$= \frac{5}{6}$$

答え： $\frac{5}{6}$ m²

2 1mの重さが $\frac{3}{4}$ kgのホースがあります。このホース7mの重さは何kgですか。



$$\square = \frac{3}{4} \times 7$$

$$= \frac{3 \times 7}{4}$$

$$= \frac{21}{4} \left(5 \frac{1}{4} \right)$$

答え： $\frac{21}{4}$ ($5 \frac{1}{4}$) kg