



およその面積と体積 2

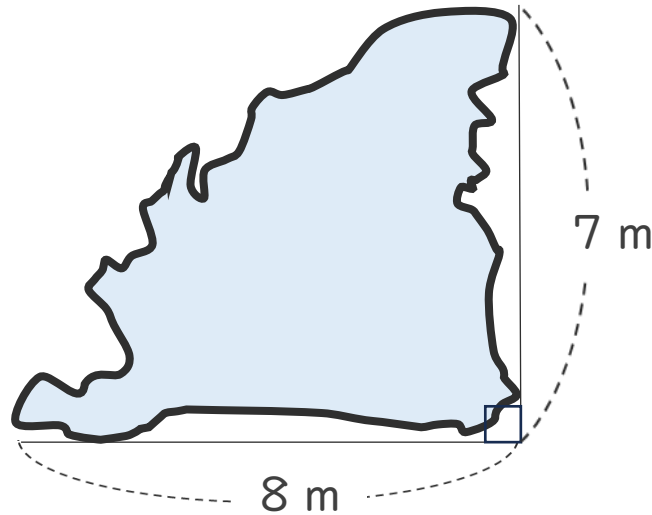
● 図形に見立てて
およその面積を求める



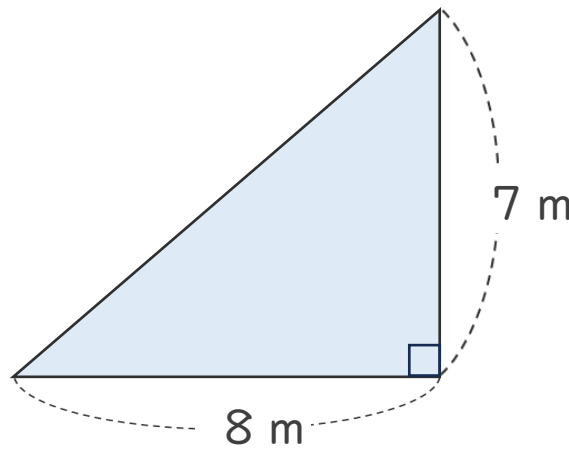
日にち： 月 日

名まえ _____

・ 次の図のような形の池の面積は、およそ何 m^2 ですか。



☆池の形を三角形とみて、面積を求めましょう。



三角形の面積は

底辺 × 高さ ÷ 2

で求めるよ！



式： × ÷ =

答え： 約 m^2



およその
面積と体積 2

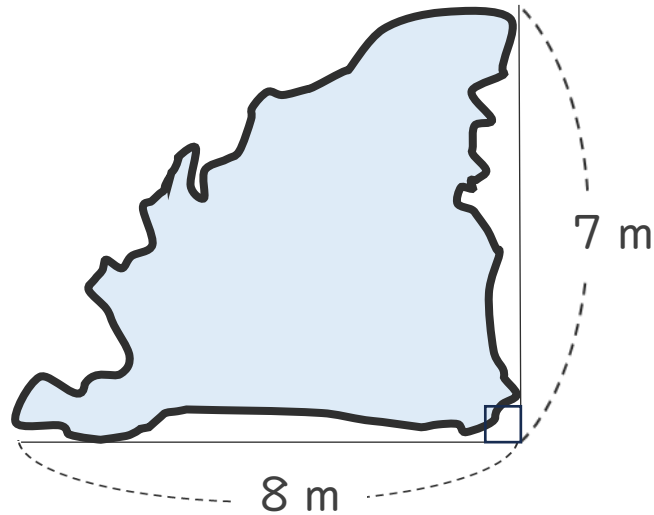
● 図形に見立てて
およその面積を求める



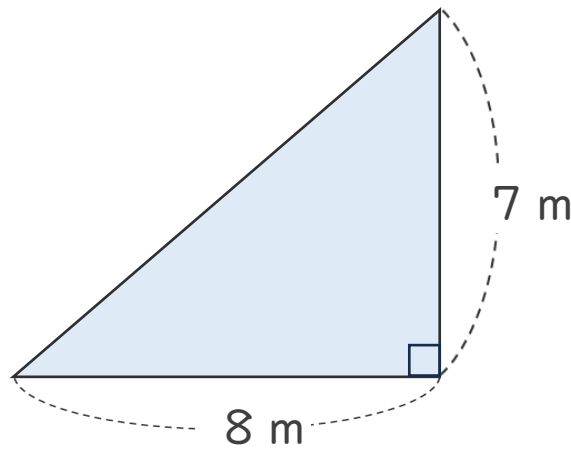
日にち： 月 日

名まえ _____

- 次の図のような形の池の面積は、およそ何 m^2 ですか。



☆池の形を三角形とみて、面積を求めましょう。



三角形の面積は

底辺 × 高さ ÷ 2

で求めるよ！



式： $\boxed{8} \times \boxed{7} \div \boxed{2} = \boxed{28}$

答え： 約 **28** m^2

