



# 拡大図と縮図

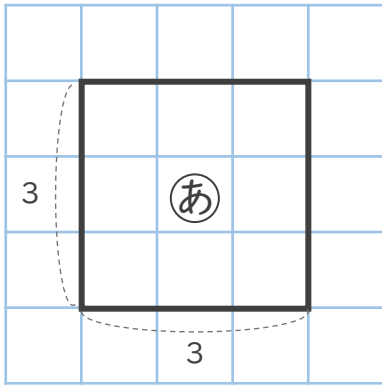
● 拡大図と縮図は  
どれですか

4

日にち：        月        日

名まえ \_\_\_\_\_

・ ㊦の図の拡大図はどれですか。また、㊦の図の縮図はどれですか。



かくだいず

**拡大図**：もとの図を、形を変えずに大きくした図

しゅくず

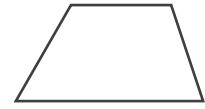
**縮図**：もとの図を、形を変えずに小さくした図



小さく



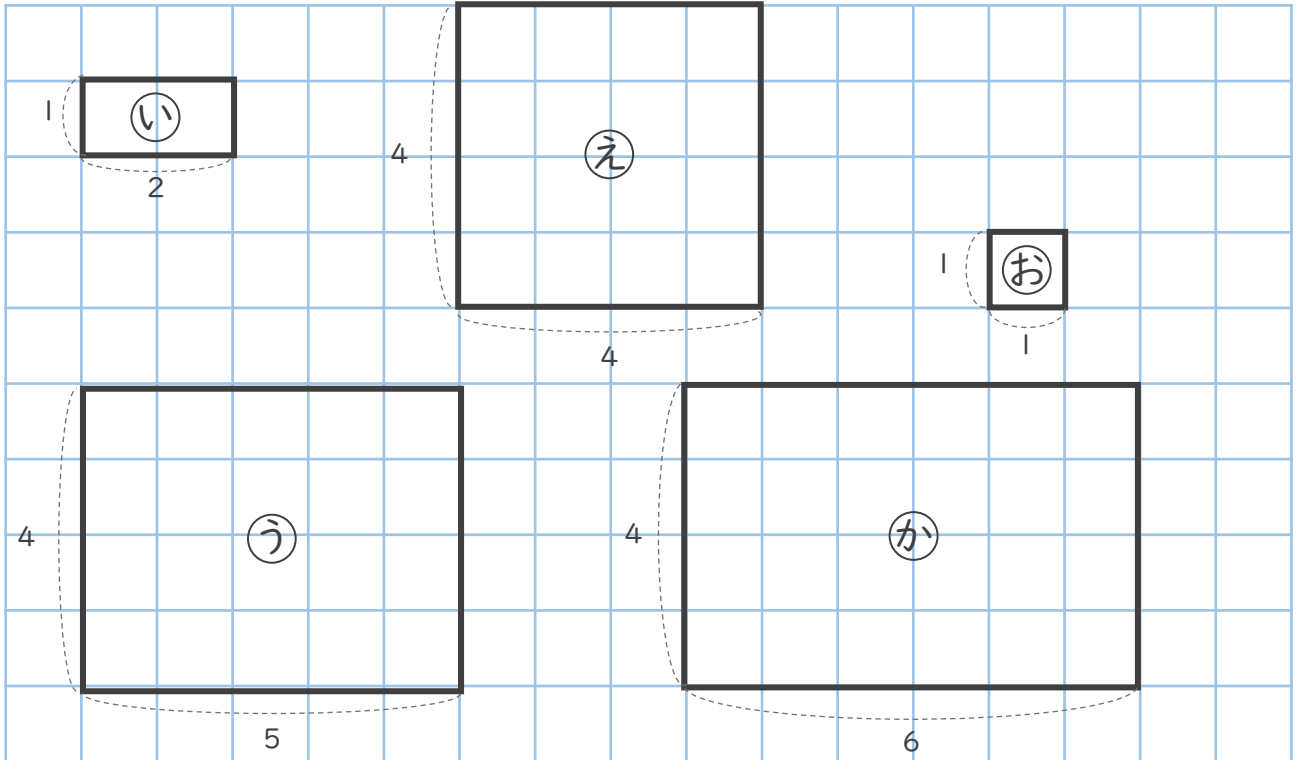
大きく



縮図

もとの図

拡大図



拡大図： (                    )

縮図： (                    )



# 拡大図と縮図

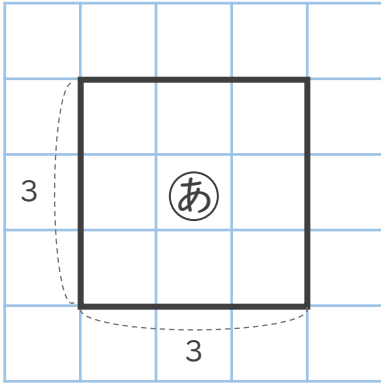
● 拡大図と縮図は  
どれですか

4

日にち： 月 日

名まえ \_\_\_\_\_

・ <sup>かくだいず</sup>㉞の図の拡大図はどれですか。また、<sup>しゅくず</sup>㉞の図の縮図はどれですか。



<sup>かくだいず</sup>

**拡大図**：もとの図を、形を変えずに大きくした図

<sup>しゅくず</sup>

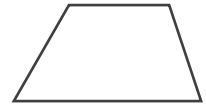
**縮図**：もとの図を、形を変えずに小さくした図



小さく



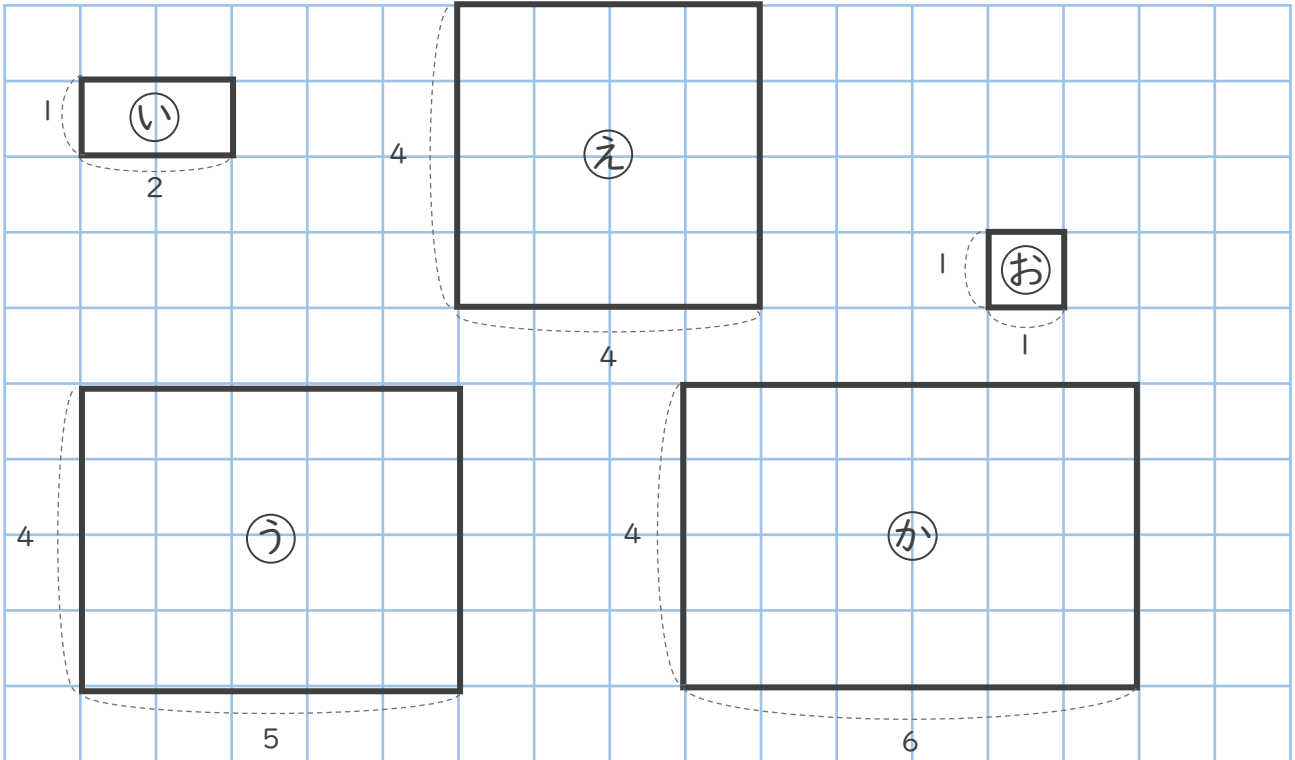
大きく



縮図

もとの図

拡大図



拡大図：（ ㉟ ）

縮図：（ ㊳ ）

